

ESCOLA ESTADUAL EURÍPEDES BARSANULFO

ALUNO: _____ TURMA: _____

ATIVIDADE DE MATEMÁTICA:

ASSISTA AO VÍDEO E MARQUE COM UM X A RESPOSTA CORRETA:

- 1) QUAL DAS FIGURAS ABAIXO TEM SEIS LADOS:
- a) PIRÂMIDE
 - b) TRIÂNGULO
 - c) CUBO
 - d) CONE

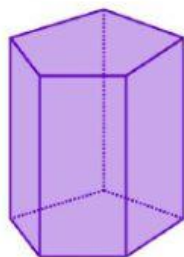
2 – ARRASTE E SOLTE OS NOMES DAS FIGURAS GEOMÉTRICAS PARA O SEU LUGAR CORRETO:



PARALELEPÍPEDO




CONE



ESFERA




CUBO



PRISMA

3 – MARQUE A RESPOSTA CORRETA ABAIXO:



A) Quantos triângulos aparecem no desenho?

- (A) 4
- (B) 5
- (C) 6
- (D) 7

B) Veja abaixo o desenho que um artista plástico criou usando 7 placas de trânsito.



- A) 
- B) 
- C) 
- D) 