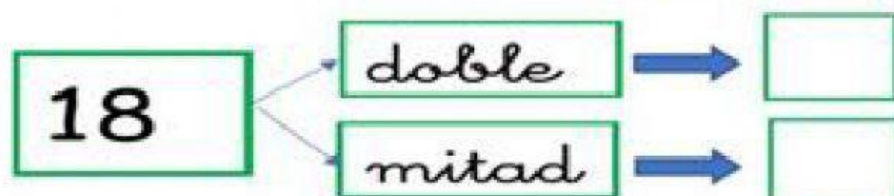
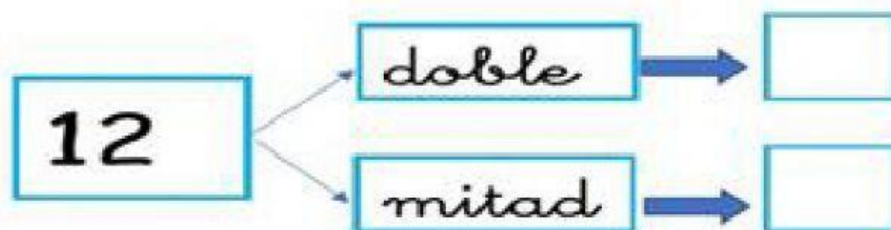
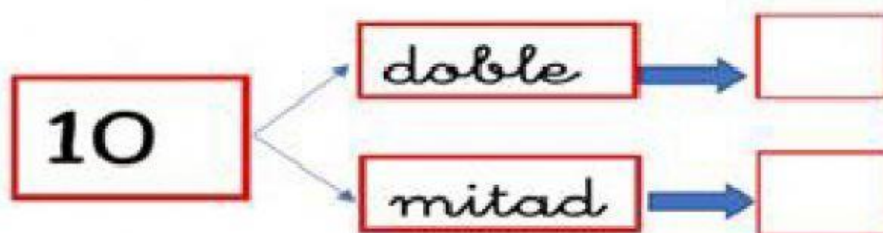


LA MITAD DE UN NÚMERO

NOTA APELLIDOS Y NOMBRE:



1.-HALLA EL DOBLE Y LA MITAD



ARRASTRA LA RESPUESTA CORRECTA.

Observa y responde:
¿Cuántos rosas juntó la gatita Kitty?

Junté 24
rosas.



Pitufo

Y yo junté la
mitad.



Kitty

48

12

13

Observa y responde:
¿Cuántos fresas juntó Pitufina?

sembré 18
fresas.



Pitufito sembrador

Y yo la
mitad.



Pitufina

9

36

26

En Santa Elena hay 28 carros. La mitad de los carros son de color blanco. ¿Cuántos carros son de color blanco?

26

14

36