



Prof. Alejandra Lagos
Departamento de Historia

Evaluación final Unidad 2 Historia, Geografía y Ciencias Sociales.

Habilidades cognitivas: Caracterizar la sociedad griega antigua. Localizar la civilización griega en un mapa.

I. Preguntas de alternativas. Lee cada pregunta y marca la alternativa correcta.

1. ¿En qué continente se ubicó el territorio de los griegos?
A. América.
B. África.
C. Europa.
2. ¿Qué tipo de actividad económica realizaron los griegos antiguos gracias al mar Mediterráneo?
A. Comercio.
B. Minería.
C. Agricultura.
3. ¿Qué característica tuvo la religión de los antiguos griegos?
A. Adoraban dioses con forma de animales.
B. Creían en varios dioses con forma humana.
C. Creían en un solo dios creador del universo.
4. ¿Qué característica tuvo la antigua sociedad griega?
A. Desigual en derechos y libertades.
B. Individualista pues valoraba la competencia.
C. Igualaba derechos de hombre y mujer.
5. ¿Qué función cumplía el **ágora** en la polis griega?
A. Era la plaza pública en la que se reunía y compartía la comunidad.
B. Era el lugar sagrado en el que se realizaban oraciones y ofrendas.
C. Era el espacio privado en el que se reunían para compartir en familia.

Observa el mapa y responde las preguntas 5 y 6.












6. ¿Qué nombre recibe el territorio indicado con la letra b?
 - A. Península Itálica.
 - B. Península Ibérica.
 - C. Península de los Balcanes.
7. ¿Qué nombre recibe el sector indicado con la letra a?
 - A. Mar Muerto.
 - B. Mar Mediterráneo.
 - C. Mar Rojo.
8. ¿De qué manera repercutió en la vida de los antiguos griegos el acceso a costas, bahías e islas?
 - A. Permitió el desarrollo de la agricultura y la ganadería sin mayor esfuerzo.
 - B. Facilitó las comunicaciones, la navegación y el comercio marítimo entre griegos y otros pueblos.
 - C. Mantuvo protegido al territorio griego de posibles invasiones y amenazas de pueblos enemigos.
9. Los griegos destacaron por sus grandes y variados aportes a las sociedades actuales, ¿qué nombre recibe el sistema de gobierno que surgió en Atenas?
 - A. Aristocracia.
 - B. Monarquía.
 - C. Democracia.
10. Los antiguos griegos daban gran importancia a la vida pública, por ello contaban con un espacio en el que podían discutir los asuntos de la polis. ¿Qué nombre recibía este lugar?
 - A. Ágora.
 - B. Acrópolis
 - C. Puerto.

II. Escribe en la columna B, la letra de la descripción correspondiente en la columna A. (2 puntos cada 1, 10 puntos en total)

Columna A	Columna B
A. Era el nombre que recibían los extranjeros en Grecia, no podían ser ciudadanos.	____Atenas.
B. Es el nombre del lugar donde nace la civilización griega.	____Metecos.
C. Es la plaza pública de los griegos.	____Ágora.
D. Es la polis griega que se destacó por su espíritu guerrero.	____Esparta.
E. Es la polis griega que destacó por su aporte a la cultura.	____ Península de los Balcanes.

III. Elige entre Esparta y Atenas según corresponda a la afirmación. (2 puntos cada 1, 10 puntos en total)

ATENAS 	<p>Las mujeres tenían mayor libertad, podían practicar deportes y en ocasiones administrar la ciudad.</p>	ESPARTA 
	<p>Sólo los varones de familias acomodadas iban a la escuela.</p>	
	<p>Se valoraba el desarrollo de la cultura.</p>	
	<p>Tenían una democracia.</p>	
	<p>En esta polis la formación guerrera era fundamental.</p>	