

LEMBAR KERJA PESERTA DIDIK (BDR)

Nama

Kelas

Tujuan Pembelajaran Siswa Mampu :

1. Membandingkan Pecahan
2. Mengubah Bentuk Pecahan
3. Mengurutkan Pecahan

Waktu Penyelesaian : Tanggal 2 s/d 8 september 2020

Lakukan kegiatan berikut dengan sungguh-sungguh selama belajar di rumah. Kamu boleh bertanya dan didampingi orang tua tetapi harus mengerjakan sendiri supaya kamu menguasai kemampuan.

Untuk soal no 1-2 Silahkan klik a,b,c atau d untuk jawaban yang di anggap benar

1. Pada suatu hari raffli mengunjungi Monumen Nasional (Monas), ia mencatat bahwa $\frac{5}{7}$ pengunjung bersal dari Jakarta dan $\frac{2}{7}$ pengunjung berasal dari luar daerah. Pengunjung terbanyak berasal dari ...

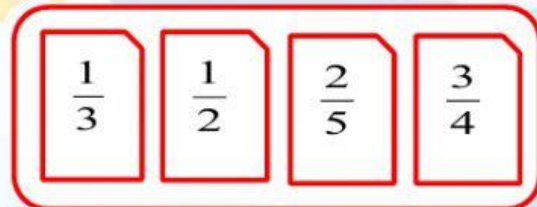

a. Jakarta b. Bandung c. Luar Daerah d. Luar Negeri

2. Jumlah siswa kelas VII SMP Tunas Bangsa adalah 45 orang, jika sebanyak $\frac{4}{9}$ bagiannya adalah siswa perempuan, maka banyaknya siswa perempuan di SMP tersebut adalahorang

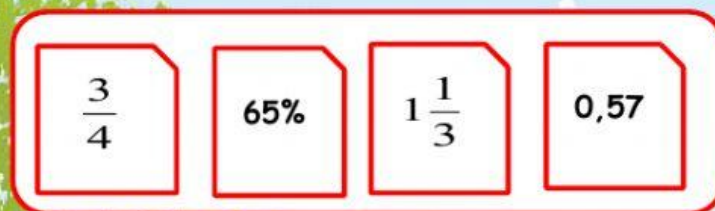
a. 10 b. 15 c. 20 d. 25

Untuk soal no 3-4 Geser kotak putih ke kotak Merah

3. Untuk Pecahan-Pecahan $\frac{1}{3}, \frac{1}{2}, \frac{2}{5}, \frac{3}{4}$, urutan pecahan dari yang terkecil hingga yang terbesar adalah ...



4. Untuk Pecahan-Pecahan $\frac{3}{4}, 65\%, 1\frac{1}{3}$ dan $0,57$, urutan pecahan dari yang terkecil hingga yang terbesar adalah ...



Selamat belajar di rumah bersama Ibadah Ibu dan Ayah.
Tetap jaga kesehatan dengan cara makan makanan yang bergizi,
rajin mencuci tangan dengan sabun, menggunakan masker jika harus
keluar rumah, hindari kerumunan, dan menjaga jarak 1-2 meter
dari orang lain.