



## EVALUACIÓN INTEGRATIVA N° 1

**1** ¿Cuántos hay? 


a)




b)



c)



d)



**2** Calcula.

- a)  $2 + 3 = \square$
- b)  $9 - 9 = \square$
- c)  $3 + 7 = \square$
- d)  $7 - 6 = \square$

**3** Completa. 

9	
	8

4	
2	

**4** Tenía 9 peces. Regalé 3.  
¿Cuántos peces me quedan?

$$\square - \square = \square$$

Respuesta:  peces.

**5** Había 5 perros. Llegaron 5 más. ¿Cuántos perros hay en total?

$$\square + \square = \square$$

Respuesta:  perros.

¿Sumamos (+)  
o restamos (-)?

