

PECAHAN SEDERHANA

Perhatikan video berikut ini !



1. Satu buah apel dibagi menjadi 3 bagian. Maka setiap bagian bernilai

a. $3/3$


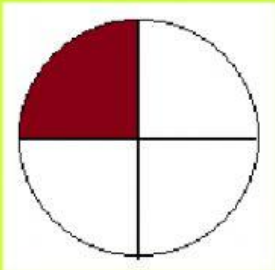


b. $3/1$

c. $2/3$

d. $1/3$



2. Tariklah garis antara pecahan dengan gambar yang sesuai !

		$\frac{1}{4}$
		$\frac{3}{4}$
		$\frac{1}{8}$
		$\frac{2}{5}$

3. Pak Rino baru saja membelah semangka miliknya menjadi 10 bagian. Ada dua bagian yang dimakan oleh anak pak Rino. Sisa semangka pak Rino tinggal

a. $2/10$






b. $3/10$

c. $1/10$

d. $8/10$



4. Letakkanlah pada gambar pecahan yang sesuai!

1.		→	<input type="text" value="...."/>	<div style="border: 1px solid black; border-radius: 10px; padding: 5px; margin-bottom: 5px; width: 100%;">Dua per empat</div> <div style="border: 1px solid black; border-radius: 10px; padding: 5px; margin-bottom: 5px; width: 100%;">Dua per tiga</div> <div style="border: 1px solid black; border-radius: 10px; padding: 5px; margin-bottom: 5px; width: 100%;">Satu per enam</div> <div style="border: 1px solid black; border-radius: 10px; padding: 5px; margin-bottom: 5px; width: 100%;">Satu per empat</div> <div style="border: 1px solid black; border-radius: 10px; padding: 5px; width: 100%;">Tiga per empat</div>
2.		→	<input type="text" value="...."/>	
3.		→	<input type="text" value="...."/>	
4.		→	<input type="text" value="...."/>	
5.		→	<input type="text" value="...."/>	

Sukma, Dikma, Dida, dan Lora sedang berkaryawisata bersama.
Setiap anak mendapat 1 kue besar untuk bekal dalam perjalanan.
Ketika sampai di tempat tujuan, mereka melihat sisa kue masing - masing.

Kue Sukma tinggal $\frac{1}{2}$ bagian.



Kue Dida tinggal $\frac{1}{4}$ bagian.



Kue Dikma tinggal $\frac{1}{3}$ bagian



Kue Lora tinggal $\frac{1}{6}$ bagian



Kue siapakah yang tersisa paling besar ?

- a. Sukma
- b. Dida
- c. Dikma
- d. Lora