



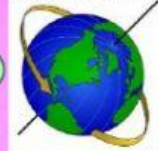
“¿DE DÍA O DE NOCHE?”



1. Lee detenidamente cada enunciado y une con su respuesta correcta:

Es una estrella que da luz y calor a la tierra...

Movimiento de Rotación de la Tierra




Es de noche cuando en el cielo se puede observar...



La tierra se mueve sobre su propio eje mediante el proceso llamado...



El movimiento de rotación genera el...



Nuestro planeta es la...



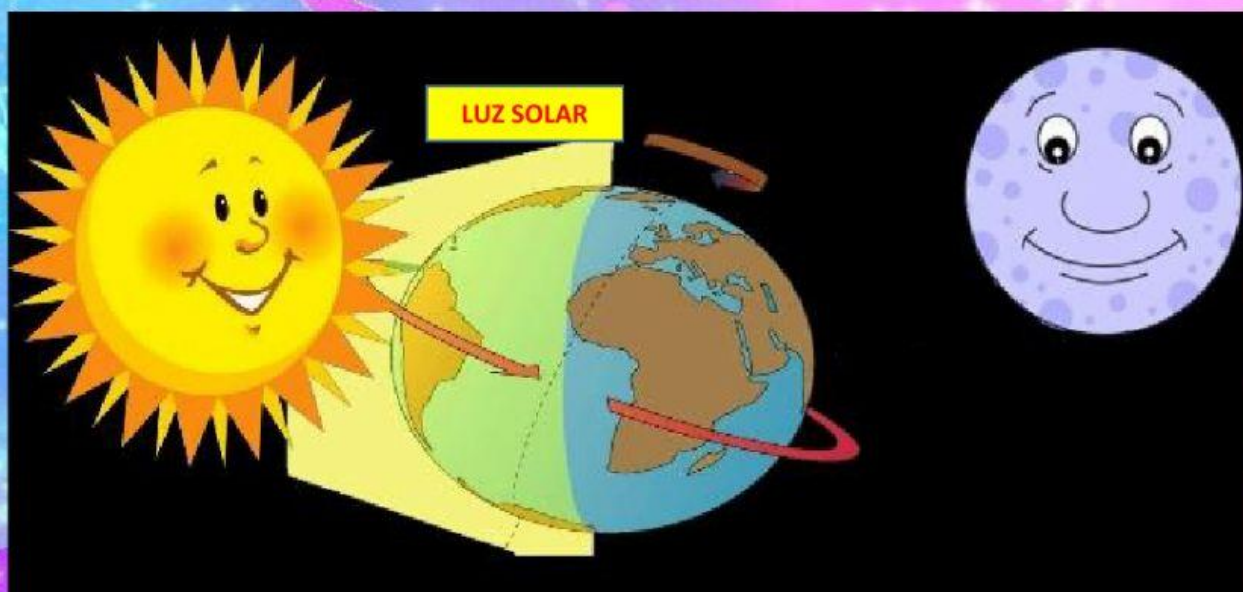
2. Encuentra las palabras en el pupiletras:



P	L	A	N	E	T	A	E
R	T	C	U	S	O	L	S
O	C	I	E	L	O	F	T
T	T	I	E	R	R	A	R
A	B	S	R	O	U	L	E
C	A	D	I	A	N	U	L
I	P	B	V	E	N	N	L
Ò	N	U	B	E	S	A	A
N	O	N	O	C	H	E	S

- ROTACIÒN
- PLANETA
- TIERRA
- DÌA
- NOCHE
- SOL
- LUNA
- ESTRELLAS
- NUBES
- CIELO

3. Observa la imagen y completa los espacios en blanco (con letra mayúscula):



- El día y la noche ocurren por el movimiento de _____ de la Tierra en el que gira sobre sí misma.
- Es de día en la parte de la Tierra que recibe _____.
- Es de noche en la parte de la Tierra que no recibe _____.

4. Para tu cuaderno de **ÁREAS INTEGRADAS**

📖 Responde:

- ¿Puede suceder que en un lugar de la Tierra es de día y en otro de noche al mismo tiempo?, ¿por qué?

✍ Dibuja el movimiento de rotación de la tierra.

