

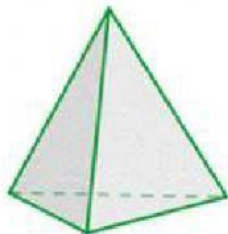


COLEGIO MAYOR DE GALES

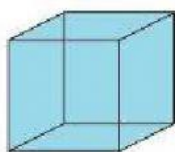
"Una Educación de Calidad para las Nuevas Generaciones"

Geometría 4 – Evaluación tercer bimestre

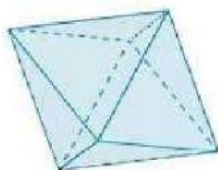
1. Une el poliedro regular con su nombre



CUBO O
HEXAEDRO



DODECAEDRO
REGULAR



OCTAEDRO
REGULAR



TETRAEDRO
REGULAR



ICOSAEDRO
REGULAR

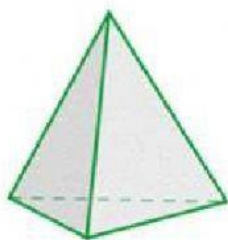




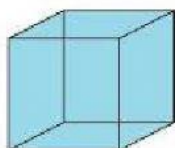
COLEGIO MAYOR DE GALES

"Una Educación de Calidad para las Nuevas Generaciones"

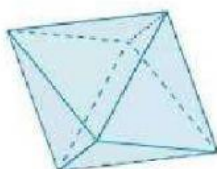
1. Une el poliedro regular con la descripción correcta



Está formado por
veinte triángulos
equiláteros



Está formado por
ocho triángulos
equiláteros



Se conforma por
doce
pentágonos
iguales



Está formado por
seis cuadrados
iguales



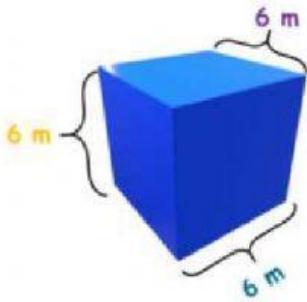
Lo conforman
cuatro triángulos
equiláteros



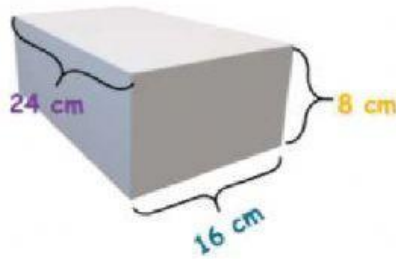


COLEGIO MAYOR DE GALES
"Una Educación de Calidad para las Nuevas Generaciones"

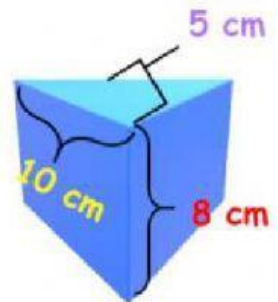
2. Hallar el volumen de la siguientes figuras y unelas con la respuesta correcta



$$A = 3.072 \text{ cm}^3$$



$$A = 200 \text{ cm}^3$$



$$A = 216 \text{ m}^3$$

