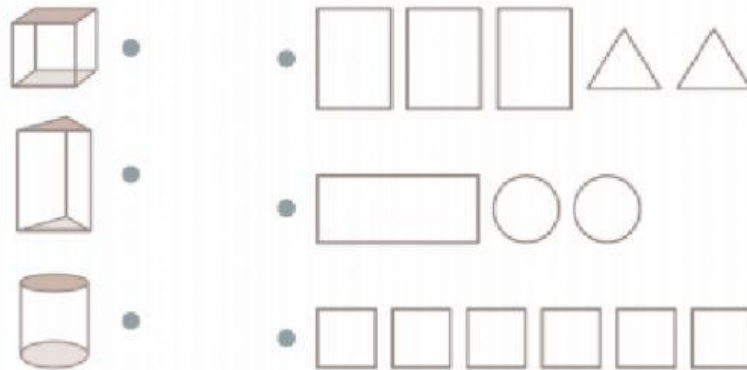


Solides et figures : les solides

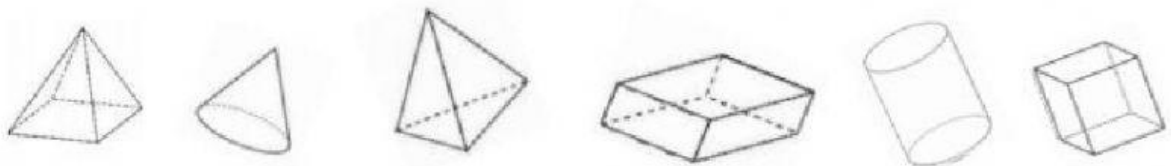
Exercice 1

Relie chaque solide à l'ensemble de ses faces.



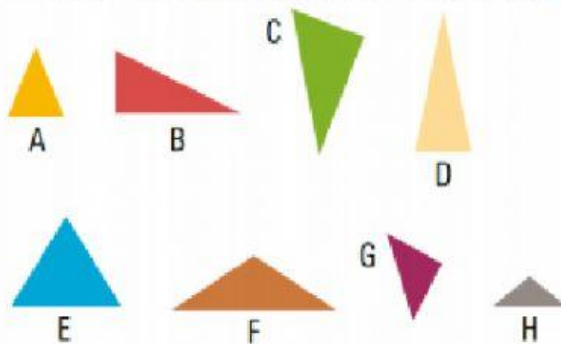
Exercice 2

Entoure les solides qui peuvent laisser ces empreintes :



Exercice 3

Classe les triangles suivants selon leurs angles dans le tableau ci-contre.



Tr. rectangles	Tr. acutangles	Tr. obtusangles