


Habilidades cognitivas: Aplicar categorías de ubicación relativa, reconocer elementos naturales y culturales de un paisaje y ubicar Chile en un mapa.

- I. Selección única. Marca con un  la respuesta correcta. (1 punto cada 1, 10 puntos en total)

Observa la imagen y responde las preguntas 1 y 2.



1. ¿Dónde está el  ?

Delante de la iglesia.

A

A la derecha de la comisaría.

B

A la izquierda del zoológico.

C

2. ¿Dónde  la ?

Entre el hospital y
el zoológico

A

Entre la comisaría
y las casas.

B

A la derecha del
parque.

C

3. ¿Cuál de los siguientes ejemplos es un elemento cultural del paisaje?



A



B



C

4. ¿En cuál fotografía se observa un lago?



A



B



C

5. ¿Cuál imagen muestra una carretera?



A




B



C

6. ¿En cuál imagen se ve una gran ciudad?



7. Si estás observando esta escena, ¿dónde está la bandera?



A

A la izquierda del mar.

B

Delante del mar.

C

A la derecha del mar.

Observa la imagen y responde las preguntas 8 y 9.



8. Si estás frente a este paisaje, ¿dónde está la casa?

A la izquierda del pino.

A

A la derecha del pino.

B

Delante del pino.

C

9. ¿Dónde está el cerro?

Debajo la casa.

A

Delante de la casa.

B

Detrás de la casa.

C

10. ¿Dónde está el pino?

A la izquierda de la casa.

A

A la derecha del cerro.

B

Delante del otro árbol.

C

II. Une cada parte de Chile con el continente en el que se encuentra (2 puntos cada 1, 6 puntos en total)



América



Antártica



Oceanía

III. Observa el mapa y realiza las actividades. (2 punto cada 1, 8 puntos en total)



a. Une con una línea el color rojo al territorio de Chile de América.




b. Une con una línea el color verde al territorio de Chile que se encuentra en Oceanía.



c. Une con una línea el color amarillo al territorio de Chile que se encuentra en la Antártica.



d. Une con una línea el  al Océano Pacífico

IV. Completa la siguiente imagen siguiendo las instrucciones. (2 puntos cada 1, 8 puntos en total)



a. Ubica la casa arriba del cerro que está a la derecha del paisaje.

b. Ubica un árbol a la izquierda de la carretera.

c. Ubica una fuente a la derecha de la carretera.

d. Ubica una nube arriba del cerro que está a la izquierda del paisaje.

