

MATEMATICAS

1) ORDENO ESTOS NÚMEROS DE MENOR A MAYOR

--	--	--	--	--

34 ; 12 ; 44 ; 32 ; 28

2) COMPLETO LA SERIE DE NÚMEROS

29					34	
----	--	--	--	--	----	--

33 31 32 35 30

3) COLOCAR EL ANTERIOR Y POSTERIOR

	28	
	15	

	36	
	30	

4) UNIR CON EL NÚMERO QUE SE FORMA

3 DIECES Y 5 UNOS

40

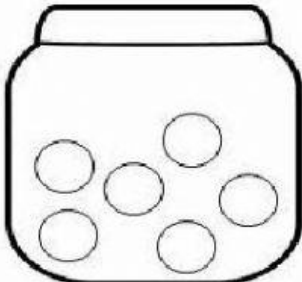
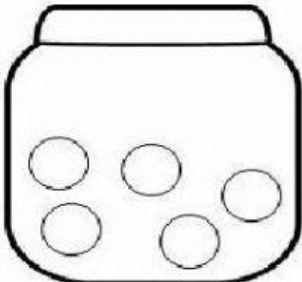
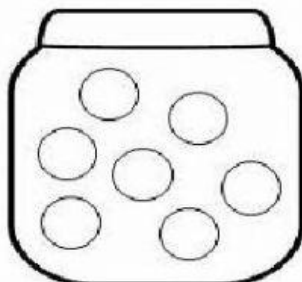
3 DIECES, 9 UNOS

35

4 DIECES

39

5) RESOLVER

 $6 - 4 = \square$	 $5 - 2 = \square$	 $7 - 3 = \square$
--	--	--