

Тиждень 5 *Вивчаємо число і цифру 6*

(ім'я)



Розглянь будиночок. За яким правилом розташовані числа у віконцях? Знайди значення виразів.



$$1 + 3 =$$

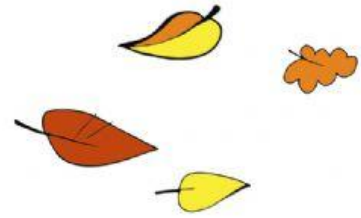
$$2 + 2 =$$

$$3 + 1 =$$

$$4 - 1 =$$

$$4 - 2 =$$

$$4 - 3 =$$



$$1 + 4 =$$

$$2 + 3 =$$

$$3 + 2 =$$


$$4 + 1 =$$

$$5 - 1 =$$

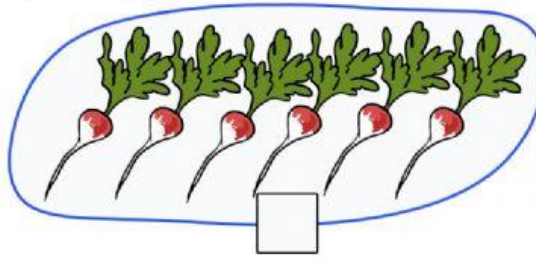
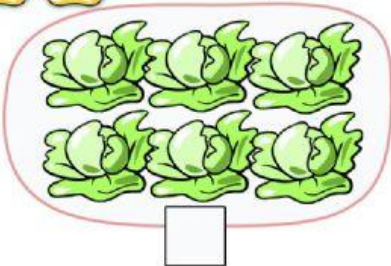
$$5 - 2 =$$

$$5 - 3 =$$

$$5 - 4 =$$



Скільки предметів в кожній групі? Напиши число.



Доповни схеми до малюнків.

