

FRACCIONES

1. Escribe los terminos de las fracciones

2 →

3 →


2. Escribe cada fracción que representa la parte coloreada de cada figura



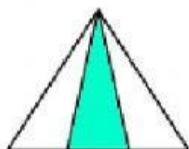
a)




b)



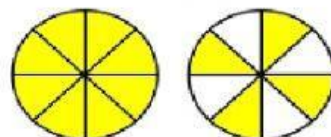
c)



d)



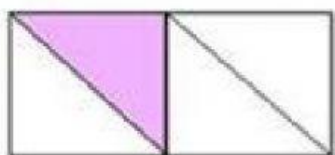
e)



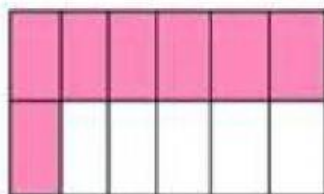
f)

*Ejercicios
Kinetas.net*

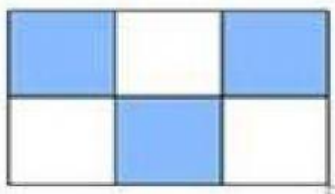
3. Escribe en letra cada fracción representada



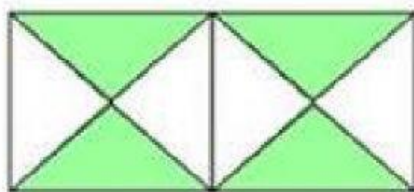
—



—




—



—

Con base a la siguiente imagen responde:



4. fraccion que representan los frutos rojos con respecto al total de elementos:

5. fraccion que representan los frutos amarillos con respecto al total de elementos:

6. fraccion que representan los frutos verdes con respecto al total de elementos:

Con base a la siguiente imagen responde:



7. fraccion de aves con respecto al total de elementos :

8. fraccion de peces con respecto al total de elementos :

9. halla la fracción del número dado:

a.

$$\frac{3}{5} \text{ de } 10$$

b.

$$\frac{1}{2} \text{ de } 50$$

c.

$$\frac{1}{3} \text{ de } 18$$

10. Clasifica las siguientes fracciones en propias, impropias o igual a la unidad

$$\frac{5}{8}$$

$$\frac{9}{5}$$

$$\frac{13}{13}$$

$$\frac{2}{7}$$
