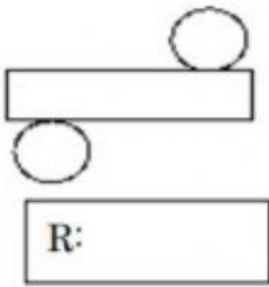
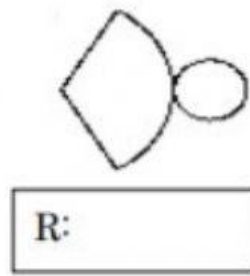


1. Identifique los desarrollos de los sólidos y escriba la letra adecuada.

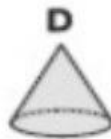
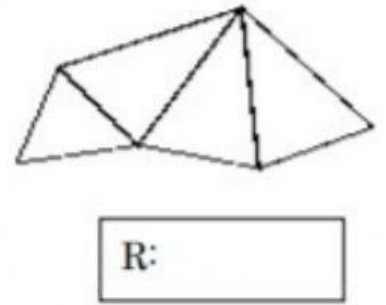
(1)



(2)




(3)



2. Escriba qué sólido se obtendrá cuando se gire cada figura plana.

(1)




(2)



(1) _____

(2) _____

3. ¿Qué forma tiene cada una de las bases de este sólido?



R: