


Prueba sumativa



Comparando (8 puntos)

¿Cuál es el número mayor 

¿Cuál es menor  o igual 

Arrastra e ubica la boca del cocodrilo en la línea correspondiente.

Escribe en el cuadro de abajo. ¿Por cuánto es mayor? o ¿Por cuánto es menor?

20

15

5

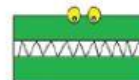
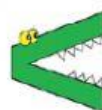
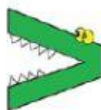
7

18

18

14

4





Valor posicional: Completa las tablas de valor posicional (2 puntos).

9

Decenas	Unidades

19

Decenas	Unidades

Representa el número. Arrastra la  que necesites para representar las decenas y  para las unidades en las tablas de valor posicional. (3 puntos).

0

Decenas	Unidades

16

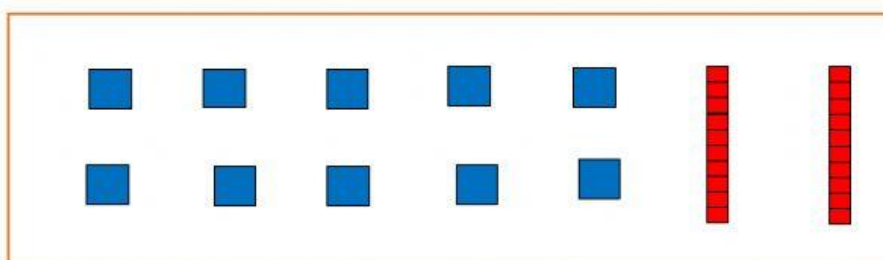
Decenas	Unidades

3

Decenas	Unidades

11

Decenas	Unidades



Pareo: Cuenta las decenas con las unidades y únela con el resultado

1 decena y 4 unidades ☐

2 decenas ☐

1 decena y 7 unidades ☐

1 decena ☐

☐ 17

☐ 14

☐ 10

☐ 20

- **Orden y secuencia:** Busca en la imagen los números que faltan para completar la secuencia. Arrastra y pégalo en el espacio correspondiente.



A

B

***Ordena los números de menor a mayor.**

12 16 14 20 10 18

