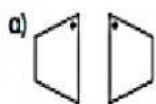
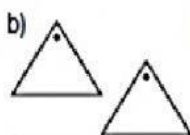
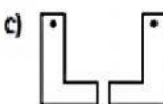


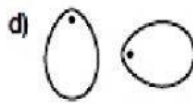
## Movimientos en el plano

1. Indica si es traslación, reflexión o rotación










2 ¿Cuál de las opciones muestra la figura en su siguiente posición?



3 Une con una línea las palabras de la izquierda con la palabra correcta de la derecha.

a) Reflexión

Deslizamiento

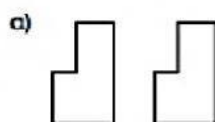
b) Rotación

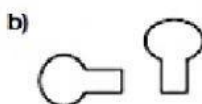
Inversión

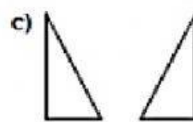
c) Traslación

Giro

4 - Escribe traslación, reflexión o rotación para cada par de figuras.








5 Pinta las figuras que son iguales.

