










Orientación espacial

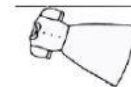
1.- En cada riel selecciona la alternativa correcta según la instrucción.

A A la derecha de la pelota			
B A la izquierda del triángulo			
C A la derecha de la pelota			
D A la derecha de la nube			
E A la izquierda del rectángulo			

2.- Completa las oraciones según lo observado arrastrando la imagen que corresponda.



❖ Arriba del vestido está _____.



❖ A la derecha de la muñeca está _____.



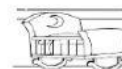
❖ A la izquierda del oso está _____.



❖ Abajo del barco está _____.



❖ La bicicleta está a la derecha de la _____.



❖ El guante está a la izquierda del _____.

