

NOTA	EL DOBLE Y MITAD DE UN NÚMERO
	APELLIDOS Y NOMBRE:



1. Elige la opción correcta para hallar el doble de cada número:

* 10 → _____

* 8 → _____

* 15 → _____

* 12 → _____

* 11 → _____

* 7 → _____

* 13 → _____

* 20 → _____

2. Elige la opción correcta para calcular la mitad de cada número:

* 8 → _____

* 12 → _____

* 10 → _____

* 16 → _____

* 6 → _____

* 20 → _____

* 14 → _____

* 18 → _____

3. Elige la opción correcta para completar el siguiente cuadro:

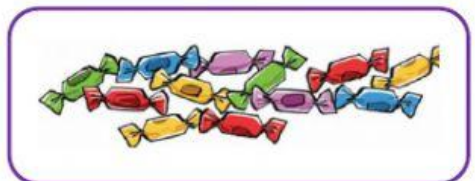
Mitad	Número	Doble
	20	
	8	
	30	

4.-Une cada número con su doble:

60	•	•	200
100	•	•	120
24	•	•	60
13	•	•	48
25	•	•	26
30	•	•	50

5.-Resuelve los siguientes problemas y arrastra el resultado correcto.

- Javier tiene 12 caramelos y Maite tiene el doble que él. ¿Cuántos caramelos tiene Maite?

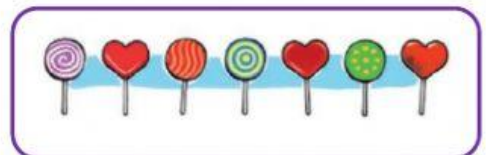


Tiene 24 caramelos.

Tiene 14 caramelos

Tiene 24 colores.

- Carmen tiene 7 paletas de caramelo y Ramón tiene el doble que ella. ¿Cuántas paletas tiene Ramón?



Tiene 14 golosinas.

Tiene 14 paletas.

Tiene 15 paletas.

- Sebastián tiene una tartaleta con 6 fresas.
Si Pablo tiene otra con el doble de fresas
y Teresa tiene otra con la mitad de fresas de Pablo.
¿Cuántas fresas tienen las tartaletas en total?

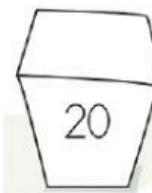
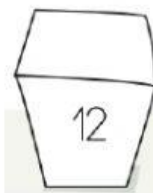
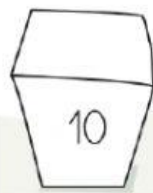
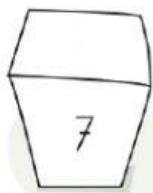


Tiene 24
fresas.

Tiene 27
fresas.

Tiene 9
fresas.

6.-Arrastra la respuesta correcta. La caja de Andrea tiene el doble de tarjetas que la de Jaime.



7.-Calcula el triple de bolitas que hay en cada bolsa.

