





Arrastra las siguientes fracciones para ubicarlas en la recta numérica según corresponda.

$$\frac{15}{4}$$


$$\frac{1}{4}$$


$$\frac{20}{4}$$


$$\frac{7}{4}$$


$$2\frac{2}{4}$$


$$\frac{25}{4}$$