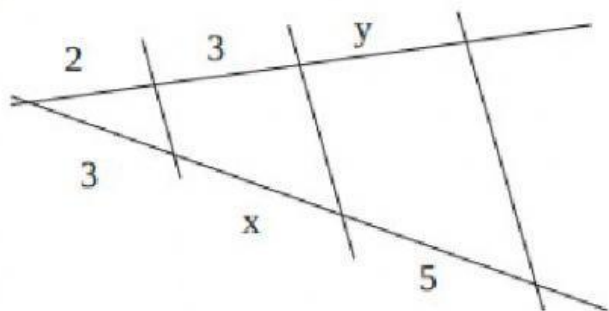
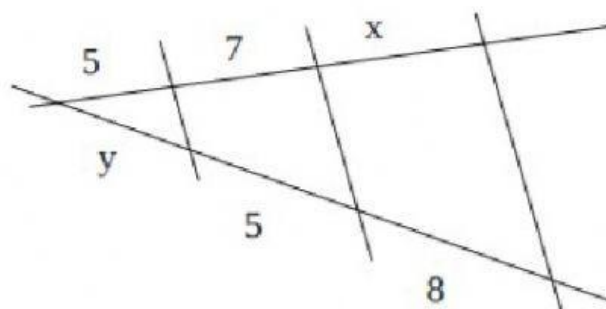


1. Calcula las longitudes desconocidas (en centímetros) con la ayuda del teorema de Tales:

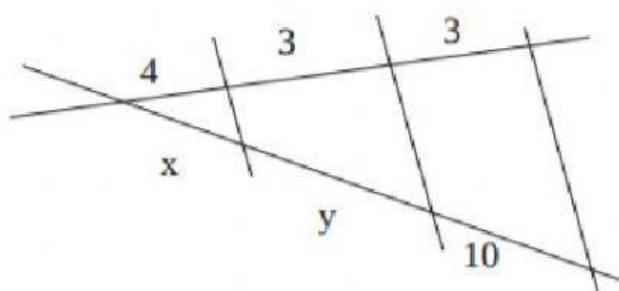
a)



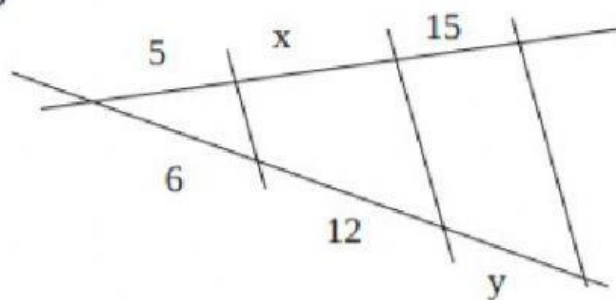
b)



c)

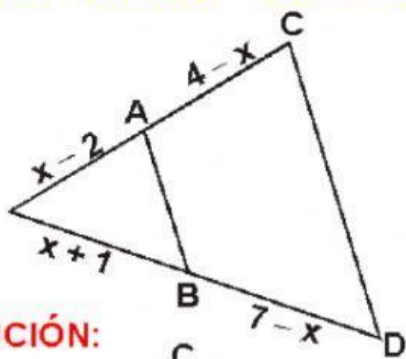


d)



En la figura: $\overline{AB} \parallel \overline{CD}$, determinar "AC".

- A) 3
- B) 4
- C) 7
- D) 1
- E) 6



RESOLUCIÓN:

Hallar "AR", si: $AB = 6$; $BC = 8$; $AC = 7$.

- A) 3
- B) 4
- C) 7
- D) 1
- E) 6

