


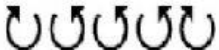



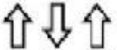




EJERCICIO #3 SISTEMA BINARIO

Escribe el número binario correspondiente para cada sistema binario. Además también escribe el número correspondiente en la suma de las posiciones.

	NÚMERO BINARIO	NÚMERO ENTERO
 = (✓=1, ✗=0)	<input type="text"/> <input type="text"/> <input type="text"/> <input type="text"/> <input type="text"/>	<input type="text"/>
 = (▲=1, ▼=0)	<input type="text"/> <input type="text"/> <input type="text"/> <input type="text"/> <input type="text"/>	<input type="text"/>
 = (⊙=1, ○=0)	<input type="text"/> <input type="text"/> <input type="text"/> <input type="text"/> <input type="text"/>	<input type="text"/>
 = (∪=1, ∩=0)	<input type="text"/> <input type="text"/> <input type="text"/> <input type="text"/> <input type="text"/>	<input type="text"/>
 = (♠=1, ♣=0)	<input type="text"/> <input type="text"/> <input type="text"/> <input type="text"/> <input type="text"/>	<input type="text"/>
 = (+=1, x=0)	<input type="text"/> <input type="text"/> <input type="text"/> <input type="text"/>	<input type="text"/>
 = (👍=1, 👎=0)	<input type="text"/> <input type="text"/> <input type="text"/> <input type="text"/>	<input type="text"/>
 = (↑=1, ↓=0)	<input type="text"/> <input type="text"/> <input type="text"/>	<input type="text"/>
 = (😊=1, 😐=0)	<input type="text"/> <input type="text"/>	<input type="text"/>
 = (☺=1, ☹=0)	<input type="text"/>	<input type="text"/>