

Práctica de monedas

Segundo Grado

Observe la siguiente imagen. Uno con líneas el objeto con la moneda que corresponde.



5
colones



10
colones



50
colones




30
colones











25
colones





Marque las monedas que necesita para poder comprar cada artículo.






































Use la menor cantidad de monedas posibles y escriba cuantas monedas necesita para tener la cantidad indicada. Use las de más valor.

Precio	₡ 5	₡ 10	₡ 100
₡ 315			
₡ 285			
₡ 195			
₡ 485			
₡ 340			
₡ 500			

Ejercicios

Marque las monedas que necesita para obtener la cantidad que se le indica.

¢75



¢100



¢95



¢45



¢55

