

ACTIVIDADES DE LOS NÚMEROS DEL 1 HASTA EL 49

1. Descomponer en decenas y unidades

30 = 3 decenas y 0 unidades

31 = 3 decenas y 1 unidades

32 = 3 decenas y 2 unidades

36 = 3 decenas y 6 unidades

39 = 3 decenas y 9 unidades

2. Ordena de mayor a menor.

32 - 39 - 30 - 38 - 31 - 33 - 34 - 36



3. Escribe de 2 en 2 desde 40 al 20 y del 20 al 40.

Response	Percentage
U.S. should take more action to protect the environment	40%
U.S. should take more action to protect the environment	35%
U.S. should take more action to protect the environment	30%
U.S. should take more action to protect the environment	25%
U.S. should take more action to protect the environment	20%
U.S. should take more action to protect the environment	15%
U.S. should take more action to protect the environment	10%
U.S. should take more action to protect the environment	5%
U.S. should take more action to protect the environment	5%
U.S. should take more action to protect the environment	5%
U.S. should take more action to protect the environment	20%

20  40

4. Escribe como se leen los siguientes números

11 _____

25

32

40

14 _____

18 _____

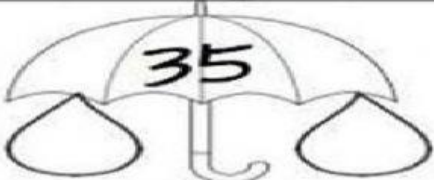
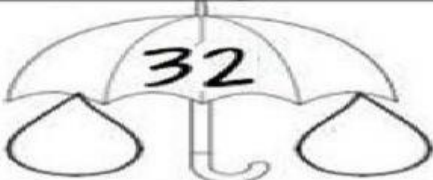

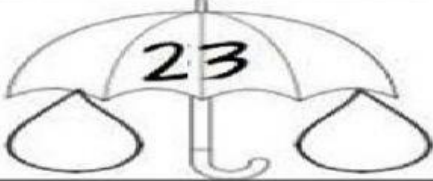
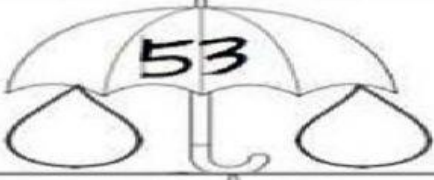
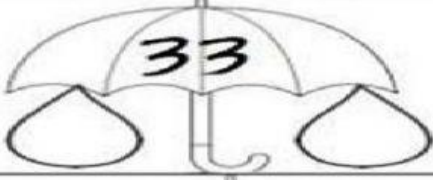


5. Ahora escribe con número

Veintiséis Quince Treinta Doce Veintiocho
 Dieciséis Treinta y uno Cuarenta Veinte


6. Completa de manera ascendente o descendente


31	<input type="text"/>	<input type="text"/>	<input type="text"/>	<input type="text"/>	<input type="text"/>	<input type="text"/>	<input type="text"/>	<input type="text"/>	40
20	<input type="text"/>	<input type="text"/>	<input type="text"/>	<input type="text"/>	<input type="text"/>	<input type="text"/>	<input type="text"/>	<input type="text"/>	11
49	<input type="text"/>	<input type="text"/>	<input type="text"/>	<input type="text"/>	<input type="text"/>	<input type="text"/>	<input type="text"/>	<input type="text"/>	40
9	<input type="text"/>	<input type="text"/>	<input type="text"/>	13	<input type="text"/>	<input type="text"/>	<input type="text"/>	<input type="text"/>	<input type="text"/>

7. Descomponer por unidades y decenas.

8. Resuelve los siguientes ejercicios de descomposición hasta el 40 con gráfica y según su notación desarrollada, completando la tabla.

Número	T.V.P.			gráficamente	Descomposición según su Notación Desarrollada
	C	D	U		
40					$40 + 0 = 40$
28					$+ =$
		3	4		$+ =$
					$+ =$
37					$30 + = 37$



9. Reúne números de dos dígitos y has la suma, sigue el ejemplo.

3

4

6

⇒

10

+

3

⇒

13

↙

10

+

3

↘

9

1

6

⇒

+

⇒

↙

+

↘

7

8

2

⇒

+

⇒

↙

+

↘

5

3

7

⇒

+

⇒

↙

+

↘

5

9

5

⇒

+

⇒

↙

+

↘

6

4

1

⇒

+

⇒

↙

+

↘