




GUÍA PARA RETROALIMENTAR CONTENIDOS

Completa la tabla escribiendo el nombre de un pueblo que habitaba en cada zona de nuestro país. Señala las características que más te llaman la atención de cada uno de ellos.

Zonas de Chile	Pueblo que habitaba en ella	Características
NORTE		
CENTRO		
SUR		

UNE CON UNA LÍNEA LA ZONA GEOGRÁFICA A LA QUE PERTENECÍAN LOS SIGUIENTES PUEBLOS ORIGINARIOS

				
---	--	---	--	--

ZONA NORTE	ZONA CENTRAL	ZONA SUR
------------	--------------	----------

GUÍA PARA RETROALIMENTAR CONTENIDOS

LEE LAS SIGUIENTES DESCRIPCIONES E IDENTIFICA EL PUEBLO ORIGINARIO AL QUE SE HACE REFERENCIA

<p style="text-align: center;">likannantai</p> <p>Ubicación: <i>Norte Grande.</i></p> <p>Actividad: <i>Agricultores y ganaderos. Para aprovechar el agua construyeron canales de regadío.</i></p> <p>Lengua: <i>Kunsa</i></p>  <p>SEDENTARIOS</p>	
 <p>Ubicación: <i>Extremo Sur.</i></p> <p>Actividad: <i>pescadores y cazadores.</i></p> <p>Lengua: <i>Kawésqar</i></p> <p>NÓMADES</p>	<p>Vestuario: <i>vestían con pieles de nutria o de foca.</i></p> <p>Vivienda: <i>su canoa era su hogar, pero cuando se quedaban unos días construían chozas.</i></p> <p>Dato curioso: <i>a pesar que navegaban, ellos no sabían nadar, al volcar la canoa morían.</i></p>