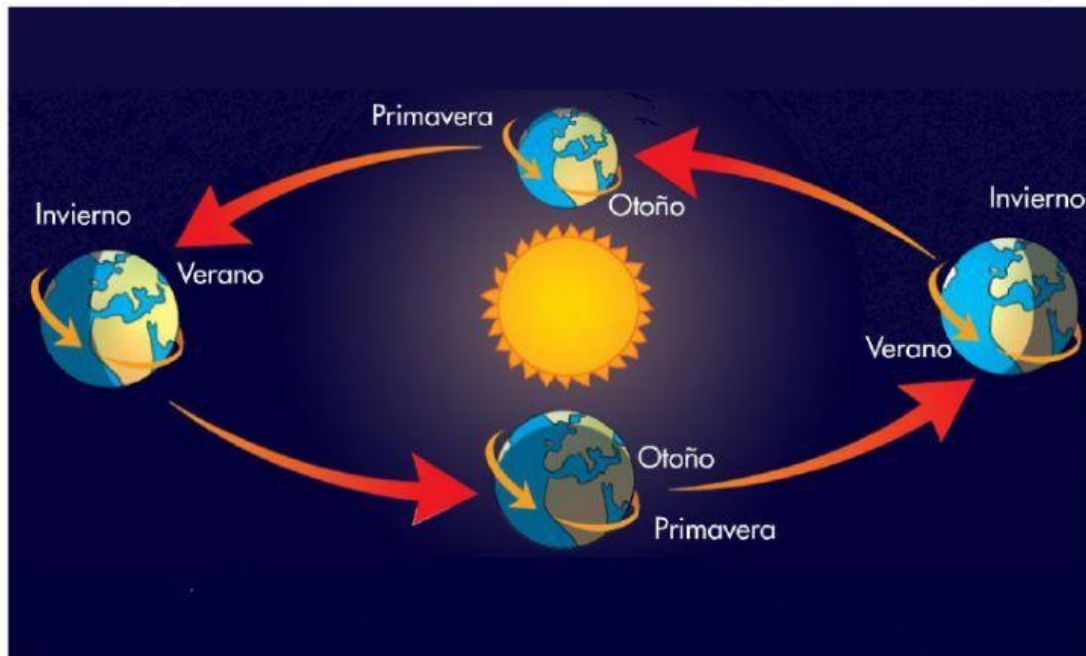


LOS MOVIMIENTOS DE LA TIERRA

1. Observa la imagen y responde:



- En el movimiento de traslación, la tierra:

Gira alrededor
de la luna

Gira alrededor
del sol

Gira sobre sí
misma

- El movimiento de traslación que realiza la tierra demora:

1 mes

1 día

1 año



- Gracias al movimiento de traslación tenemos:

Los días y las
noches

Los meses del
año

Las 4 estaciones
del año

- Escribe el nombre de la estación del año que corresponde:



*Recuerda escribir tu nombre antes de enviar tu actividad.