



EVALUACION PRIMER BIMESTRE

Estudios sociales



Nombre y Apellidos:.....

Curso:.....fecha:.....

I. Observa la imagen y selecciona la respuesta correcta:

1.¿ A qué tipo de familia corresponde la imagen?



- **Familia** monoparental: en la que el hijo o hijos cuentan con un solo progenitor (ya sea la madre o el padre).
- **Familia** nuclear: formada por los progenitores y uno, dos o más hijos.
- **Familia** extensa: abuelos, tíos, primos y otros parientes consanguíneos o afines.

II. Lee y selecciona la respuesta correcta:

1. ¿Qué se celebra el 6 de marzo?

- ☐ Día de la patria Bolivia
- ☐ Aniversario de la ciudad de El Alto
- ☐ Aniversario de la Unidad Educativa "San José"

2. ¿Que se celebra el 19 de marzo?

- ☐ Día de la madre
- ☐ Día del estudiante
- ☐ Día del padre


3. ¿Cuándo se celebra el día del mar?

- ☐ 23 de marzo
- ☐ 6 de agosto
- ☐ 12 de abril


III. Lee y escribe de los gráficos en los recuadros:

1. ¿ A qué clases de medios de comunicación corresponden?


Escrita	oral	visual




Periódico




**cartas
internet**




radio



teléfono



televisor



VI. Busca y traza una línea en las siguientes palabras:

CARTA
FOLLETOS
RADIO

COMPUTADOR
INTERNET
REVISTAS

EMAIL
LIBROS
TELEVISION

FAX
PERIODICO

H	C	C	K	X	H	T	T	O	V	R	J	R	F	S
O	U	A	C	N	F	A	X	R	E	G	M	O	J	F
C	A	R	V	B	T	Y	O	V	X	S	L	R	T	E
I	P	T	J	Y	Z	Y	I	Y	O	L	O	A	J	O
D	K	A	N	Z	Q	S	U	R	E	D	Q	D	G	I
O	O	U	W	F	T	J	B	T	A	N	I	I	V	N
I	O	Q	O	A	E	I	O	T	F	Y	H	O	I	T
R	M	P	S	U	L	S	U	J	T	R	Q	A	P	E
E	S	P	W	Z	C	P	E	P	Y	V	Z	Y	B	R
P	L	E	O	H	M	E	W	N	H	L	K	H	E	N
Z	I	T	O	O	T	A	J	M	U	Z	Q	T	H	E
G	A	G	C	A	P	W	H	E	C	Q	V	P	Q	T
C	W	V	R	O	B	X	Q	I	Z	N	G	Q	F	C
X	M	T	E	L	E	V	I	S	I	O	N	N	J	A
E	M	A	I	L	R	Z	O	Z	V	V	U	U	M	Z