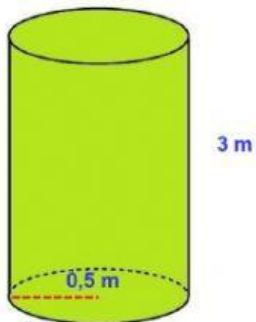


## FITXA: Àrea cossos geomètrics

Has de fer els càlculs en un full

1.- Calcula l'àrea dels següents cossos geomètrics.

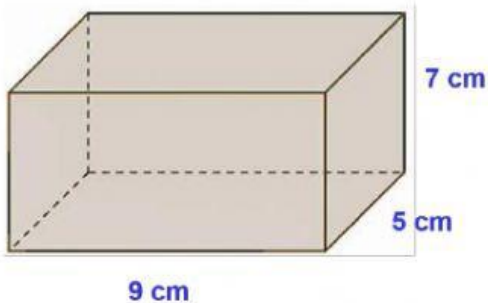


Àrea base =  $m^2$

Àrea lateral =  $m^2$

Àrea total =  $m^2$

---

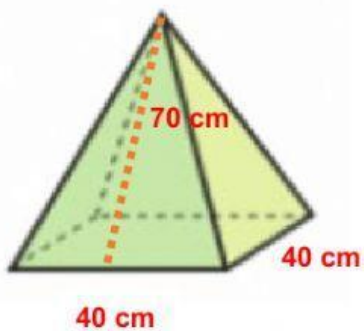


Àrea base =  $cm^2$

Àrea lateral =  $cm^2$

Àrea total =  $cm^2$

---

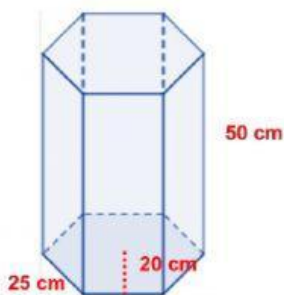


Àrea base =  $cm^2$

Àrea lateral =  $cm^2$

Àrea total =  $cm^2$

---



Àrea base =  $cm^2$

Àrea lateral =  $cm^2$

Àrea total =  $cm^2$