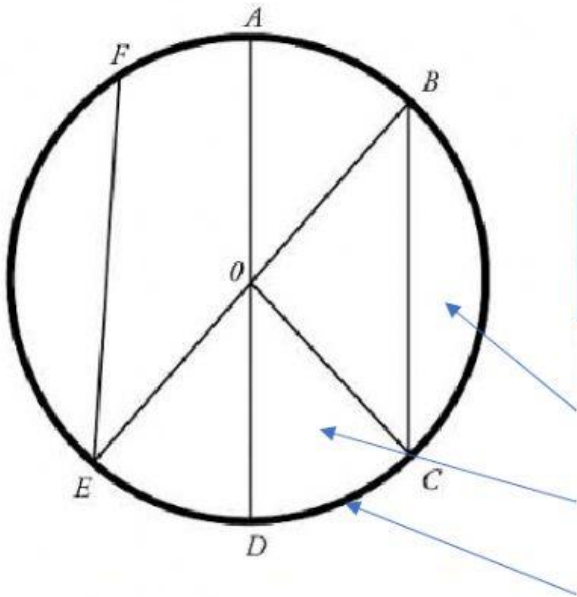


1. Identifico cada elemento del círculo y coloco cada segmento en la tabla según corresponda.



Radios	
Cuerdas	
Diámetros	

Segmentos Circular

Sector Circular

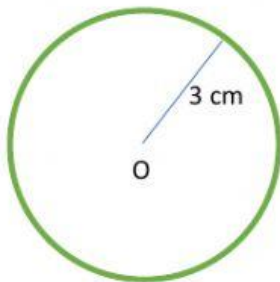
Arco

Segmentos:

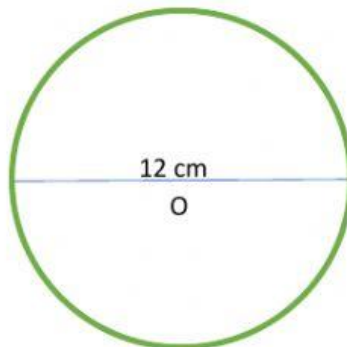
\overline{OA} \overline{OB} \overline{OC} \overline{OD} \overline{OE}

\overline{AD} \overline{BE} \overline{EF} \overline{BC}

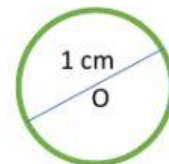
2. Calcula el perímetro del círculo conociendo su radio o su diámetro.



L= cm



L= cm



L= cm