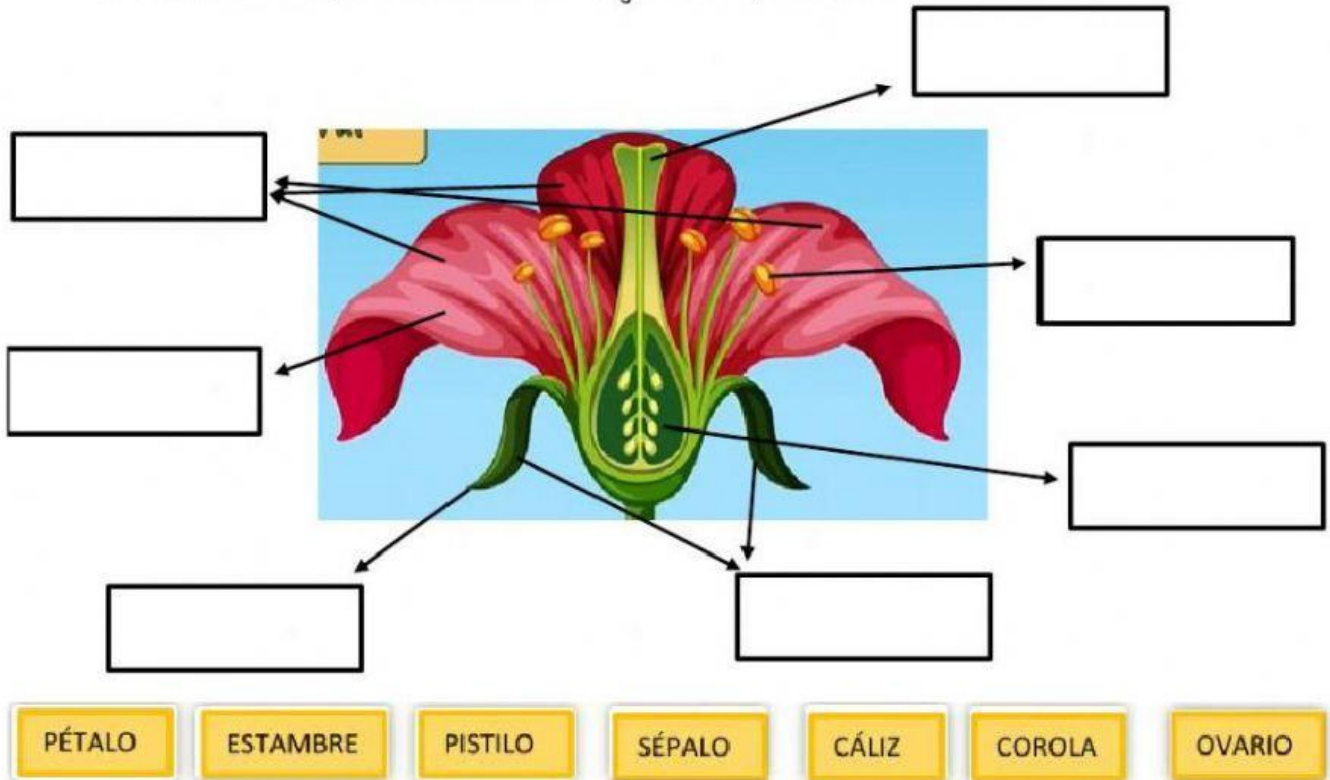


# PARTES DE LAS FLORES Y REPRODUCCIÓN



1. Arrastra cada parte de la flor a su lugar correspondiente:



2. ¿Cómo se llama ...?

- La parte de la flor que contiene el polen
- La parte femenina de la flor
- La parte masculina de la flor
- Cada una de las hojas de color que forman la corola y rodea la flor
- Cada una de las hojas verdes que forman el cáliz de la flor

3. Coloca en orden los pasos de la reproducción de las plantas: (1, 2, 3, 4).



# SOPA DE LETRAS: ANIMALES

ENCONTRAR EL NOMBRE DE LOS 7 ANIMALES ESCONDIDOS EN ESTA SOPA DE LETRAS



B	A	E	T	Z	V	P	B
H	R	M	H	R	P	E	Z
J	I	R	A	F	A	R	A
M	R	S	B	A	N	R	S
C	A	B	A	L	L	O	Z
Z	T	O	R	T	U	G	A
F	O	C	A	B	H	R	V
S	N	T	M	L	E	O	N

