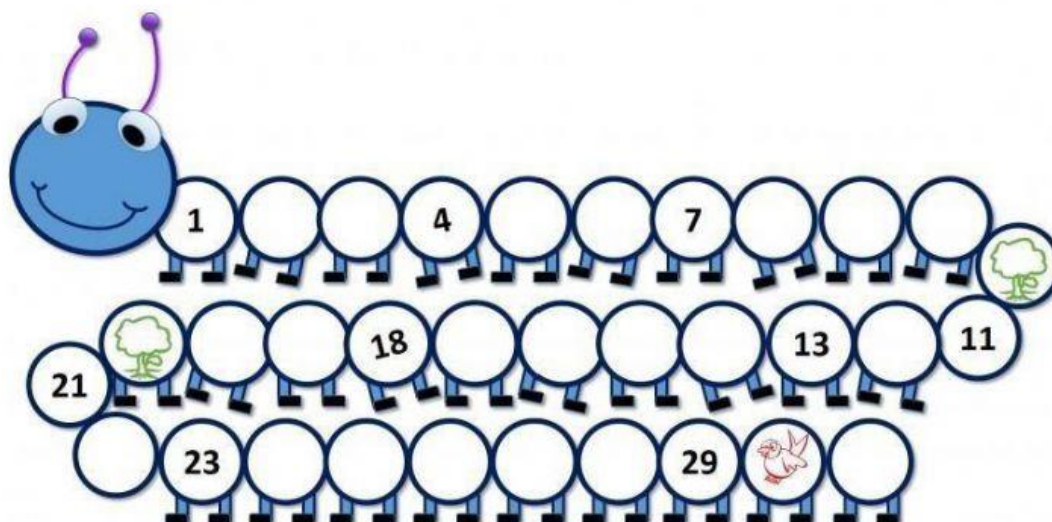


1. Completa cada barriga del gusano con los números que hacen falta

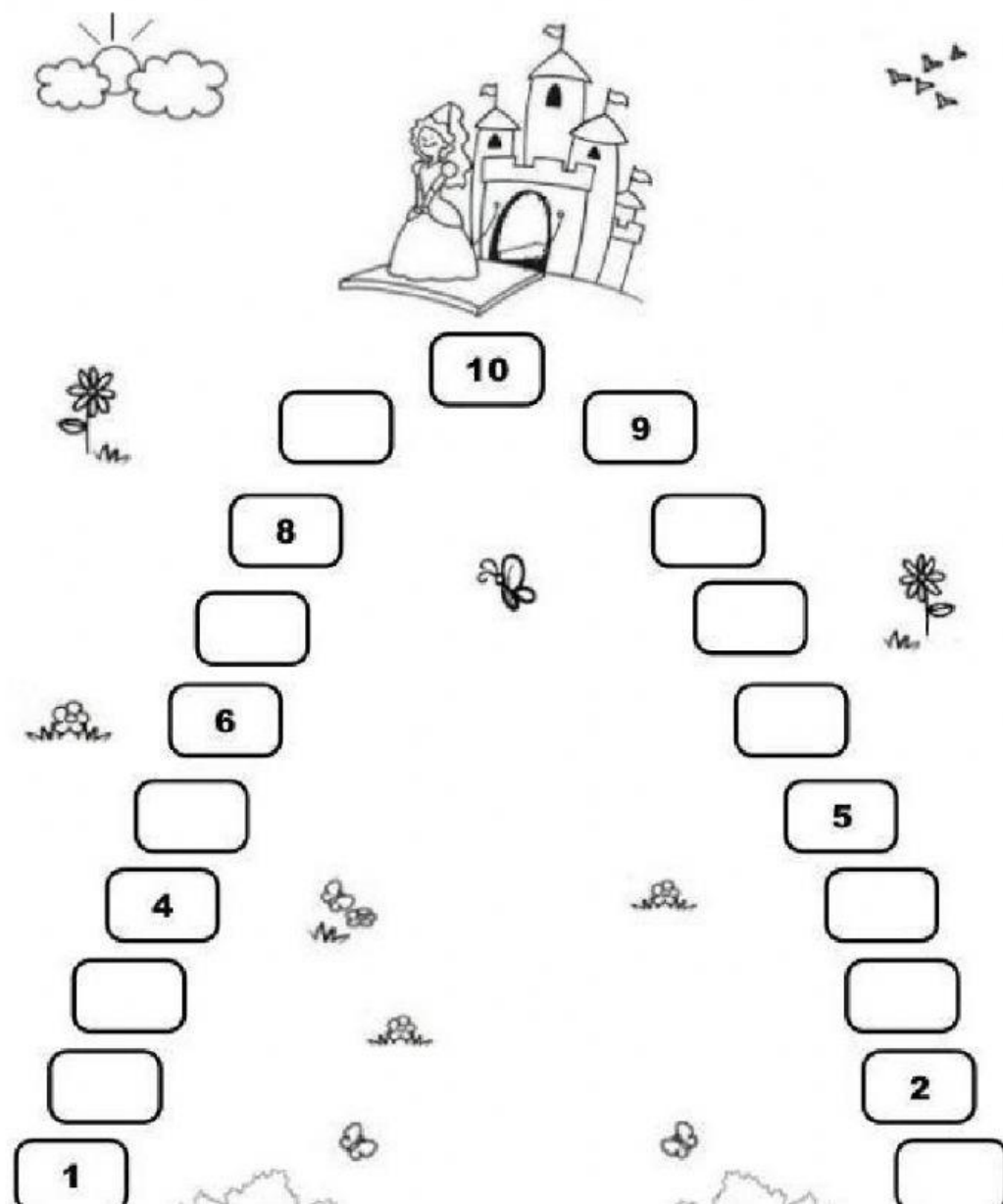


2. Observa cada imagen y relaciona con el número que corresponde.




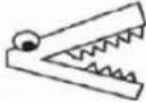



<table border="1"> <tr> <td>1</td> <td>2</td> <td>0</td> </tr> </table>	1	2	0	<table border="1"> <tr> <td>3</td> <td>2</td> <td>1</td> </tr> </table>	3	2	1
1	2	0					
3	2	1					
<table border="1"> <tr> <td>5</td> <td>4</td> <td>3</td> </tr> </table>	5	4	3	<table border="1"> <tr> <td>4</td> <td>3</td> <td>5</td> </tr> </table>	4	3	5
5	4	3					
4	3	5					

© Sue's Study Room 2015


3. Completa la secuencia de números de forma ascendente y luego descendente.




4. Ubica el cocodrilo en el espacio en blanco
indicando si el primer dígito es mayor o menor al
que aparece en el siguiente recuadro

8		10	
4		3	
7		5	
6		9	
8		6	
10		9	
6		7	


5. Indica cuales son los conjuntos llenos, los unitarios y los vacíos.
Pon el nombre de cada conjunto encima de la imagen correspondiente




Unitario



Lleno



Vacío



Lleno

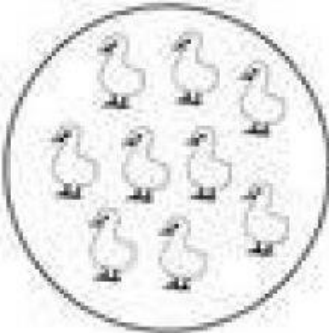
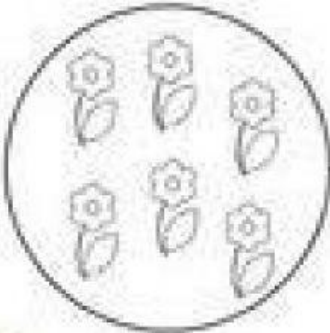
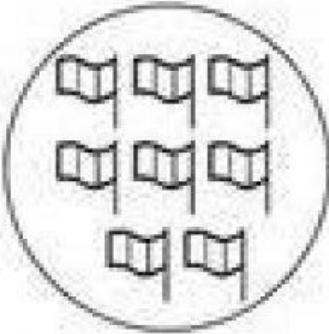

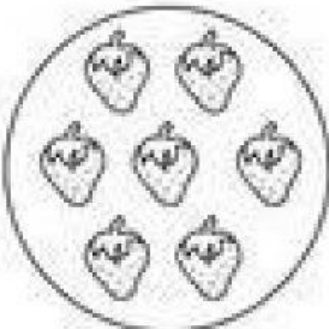



Unitario


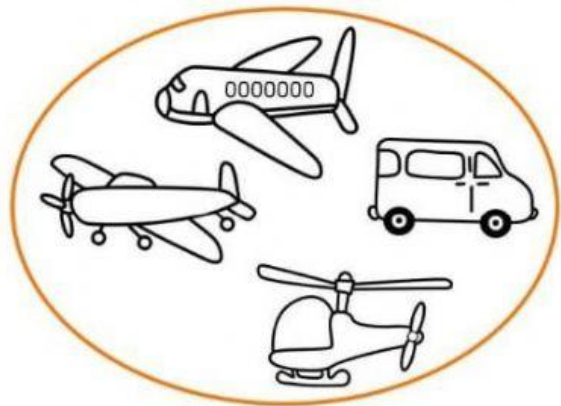
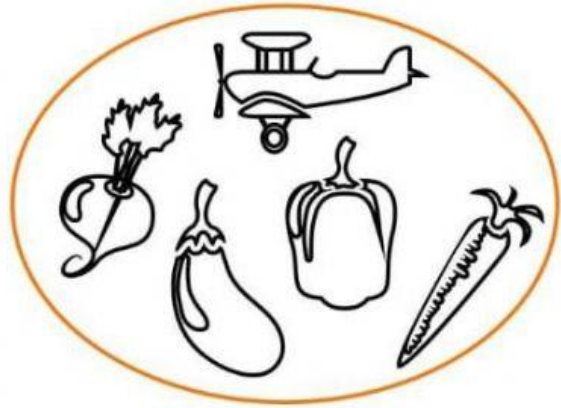



Vacío

6. Observa las imágenes de cada círculo y escribe la cantidad de objetos que hay en cada conjunto

	<input data-bbox="671 479 794 600" type="text"/>		<input data-bbox="1161 479 1270 600" type="text"/>
	<input data-bbox="671 828 794 949" type="text"/>		<input data-bbox="1161 828 1270 949" type="text"/>
	<input data-bbox="671 1187 794 1308" type="text"/>		<input data-bbox="1161 1187 1270 1308" type="text"/>




7. Observa atentamente cada imagen y selecciona los conjuntos que no pertenecen



8, Observa las imágenes y completa el conjunto lleno.


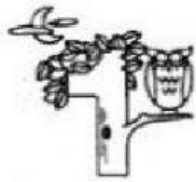


Imágenes
Educativas.com




<http://www.imageneseducativas.com>

9. Observa y completa la secuencia de números



1		3	4
	6	7	
9			12
13		15	
	18		20



1

05

10. Observa la imagen y cuenta los rebotes dio la manzana para alejarse del árbol y cuantos pasos tiene que dar la mariquita para llegar a la hoja.

