
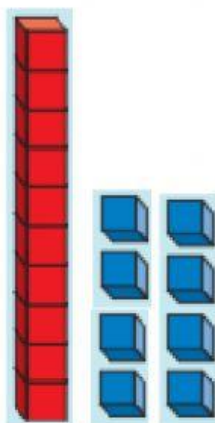
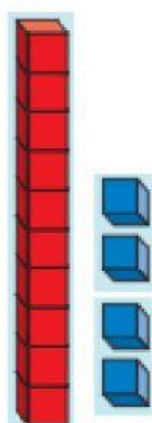




COMPARACIÓN Y DESCOMPOSICIÓN DE NÚMEROS

1.- Escribe el número que representa cada descomposición.



2.- Completa las expresiones para que sean verdaderas.

$$17 > \square$$

$$\square = 19$$

$$\square < 14$$

$$15 > \square$$

$$12 > \square$$

$$\square < 16$$

3.- Observa la descomposición, escribe el número compara los números utilizando los símbolos.

