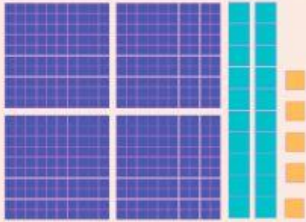




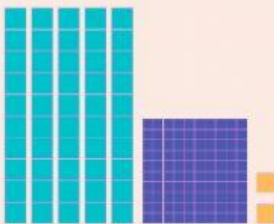
# Catemáticas

Une con la respuesta correcta y escribe el número




1

3 decenas y 4 unidades=



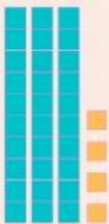
2

8 decenas y 9 unidades=




3

4 centenas, 2 decenas y 5 unidades=



4

1 centena, 5 decenas y 2 unidades=



5

3 centenas, 4 decenas y 6 unidades=

