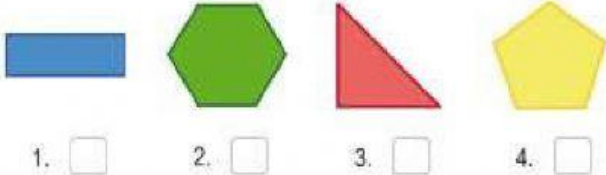




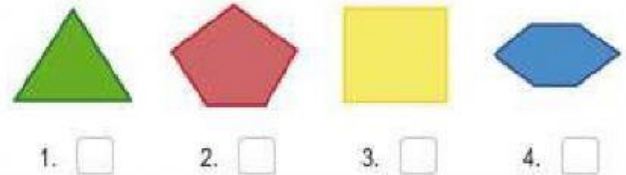
**APLICA TODOS TUS CONOCIMIENTOS**  
**"POLÍGONOS"**

Marca con una cruz la casilla donde está la figura correcta

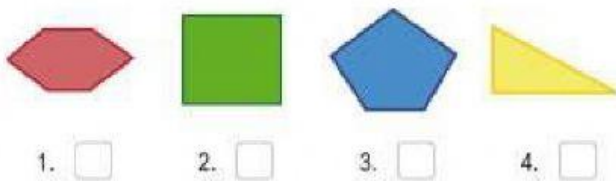
a. ¿Cuál de estos polígonos es un pentágono?



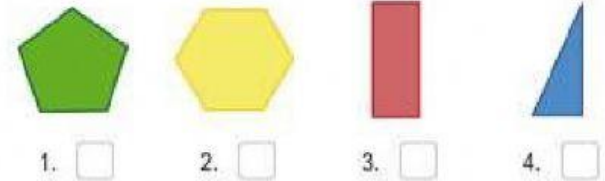
b. ¿Cuál de estos polígonos es un triángulo?



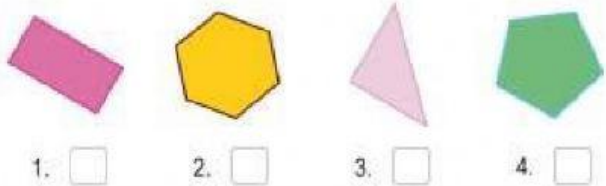
c. ¿Cuál de estos polígonos es un cuadrilátero?




d. ¿Cuál de estos polígonos es un hexágono?



e. ¿Cuál de estos polígonos es un pentágono?




f. ¿Cuál de estos polígonos es un hexágono?



Marca con una cruz la casilla donde está la figura correcta



a. ¿Qué figura de estas NO es un círculo?



1. ☐



2. ☐



3. ☐




4. ☐

b. ¿Qué figura de estas NO es un rectángulo?

educapeques



1. ☐



2. ☐



3. ☐



4. ☐

c. ¿Qué figura de estas NO tiene cuatro lados?



1. ☐



2. ☐

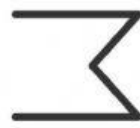


3. ☐



4. ☐


d. ¿Cuál de estas figuras es una línea recta?



1. ☐



2. ☐



3. ☐



4. ☐

e. ¿Cuál de estas figuras NO tiene líneas rectas?



1. ☐



2. ☐



3. ☐



4. ☐

f. ¿Cuál de estas líneas es curva?



1. ☐



2. ☐



3. ☐



4. ☐