





















PRACTICAMOS SUMAS HASTA EL 20



Observa con atención el siguiente código de números, luego, resolverás unas sumas con ellos.

| | | | | | | | | | |
|---|---|---|---|---|---|--|---|---|---|
|  |  |  |  |  |  |  |  |  |  |
| 1 | 2 | 3 | 4 | 5 | 6 | 7 | 8 | 9 | 10 |

| | | | | | | | | | |
|---|---|---|---|---|---|--|---|---|---|
|  |  |  |  |  |  |  |  |  |  |
| 11 | 12 | 13 | 14 | 15 | 16 | 17 | 18 | 19 | 20 |

Ahora, **selecciona** la respuesta correcta a las siguientes sumas.



9 8 10




12 11 10



19 17 18




15 11 14



18 13 15



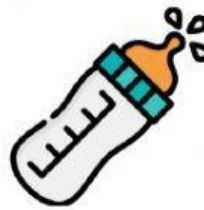
14 20 12



3

4

5



10

8

9

Resuelve las siguientes sumas y **arrastra** la respuesta en código.

$14 + 6 = \square$

$12 + 5 = \square$

$10 + 4 = \square$

$7 + 2 = \square$

$1 + 18 = \square$

$3 + 9 = \square$

$5 + 6 = \square$

$13 + 2 = \square$

$4 + 3 = \square$

$2 + 4 = \square$

