
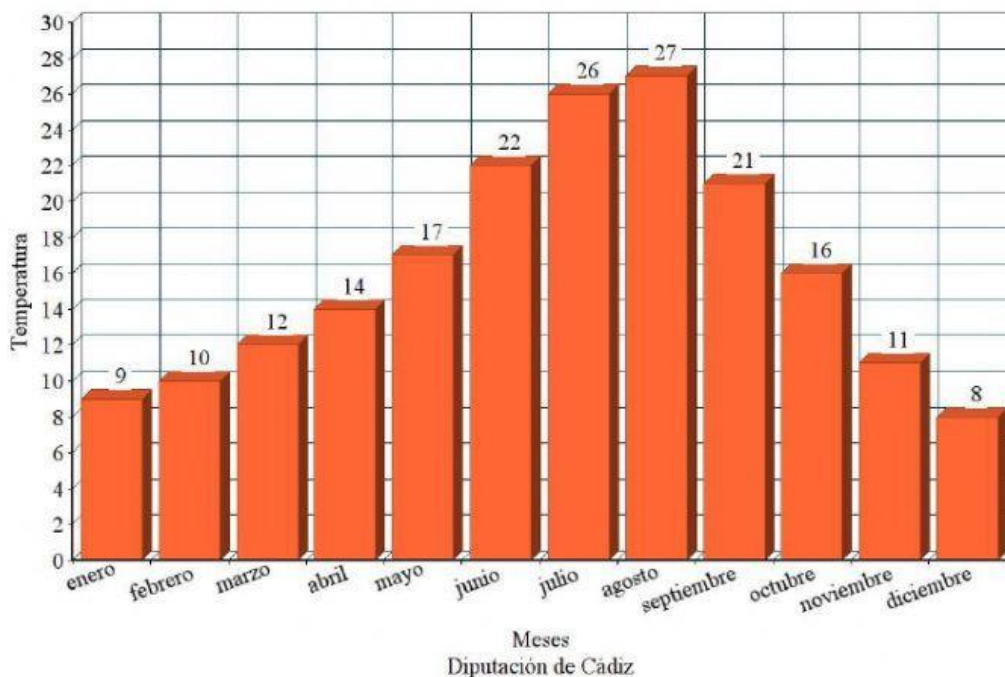


MATEMÁTICAS PRUEBA INICIAL 4º PRIMARIA

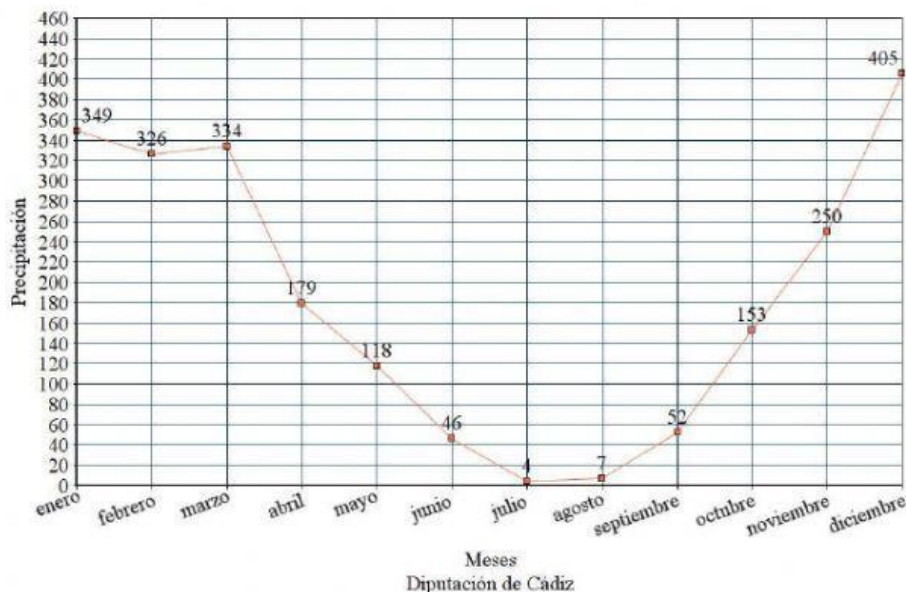
9ª ACTIVIDAD:

Cuando llegamos a Benamahoma visitamos el eco museo del agua, donde nos explicaron el ciclo del agua y nos dijeron lo mismo que la maestra nos comentó en clase hace unos días, que Grazalema es el pueblo de Cádiz donde más días llueve al año. Mirad las fotos que echamos a los carteles que explicaban las temperaturas con una gráfica de barras y las precipitaciones con una gráfica de líneas.

Temperaturas anuales GRAZALEMA



Precipitaciones anuales GRAZALEMA



GRAZALEMA

Altitud: 823 m.

Latitud: 36º

56'N.

Longitud: 45º



MATEMÁTICAS PRUEBA INICIAL 4º PRIMARIA

La temperatura es el calor o el frío que ha hecho se mide en grados y la precipitación es la cantidad de agua que ha caído en forma de lluvia, se mide en milímetros de agua.

Ahora fíjate en la tabla:

- Nombra los tres meses del año que más calor ha hecho. _____
- Nombra los tres meses más lluviosos del año. _____

OBSERVA EL CALENDARIO Y RESPONDE:



- A la excursión se fue en el cuarto mes del año, ¿qué mes es? _____
- Imagínate que ayer fuimos a la excursión, tacha ese día y contesta, ¿qué día de la semana fue? _____
- ¿Y mañana qué día será? _____
- ¿Cuántos días tiene este mes? _____
- ¿Cuántas semanas tiene este mes? _____
- Escribe tres meses más del año que tengan el mismo número de días, 30, sin contar el mes de la excursión _____