

MATEMÁTICAS PRUEBA INICIAL 4º PRIMARIA

En la fábrica del Eco Museo del queso, tras visitarla, nos hicieron una degustación de sus quesos, ¡todos parecíamos ratones!

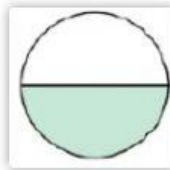
Los quesos estaban colocados en bandejas de diferentes formas, una cada bandeja con la fracción que indica su contenido y únela también con el nombre de la forma geométrica que representa.

Pentágono



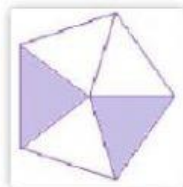
$$\frac{2}{5}$$

Círculo



$$\frac{3}{6}$$

Hexágono



$$\frac{4}{6}$$

Rectángulo




$$\frac{3}{4}$$

Cuadrado



$$\frac{1}{2}$$

Triángulo



$$\frac{2}{3}$$