

Completa.

1	2	3	4	5	6		8	9	10
11	12	13	14			17		19	20
21	22		24		26	27	28	29	30
31	32	33	34		36	37	38		40
41	42	43	44	45		47		49	50

Tengo 16 peces en la pecera.

Metí 4 más.

¿Cuántos tengo ahora?



Formula:

+  =

Respuesta:

peces.



Hay 19 huevos de chocolate.

Me como 4.

¿Cuántos huevos me quedan?



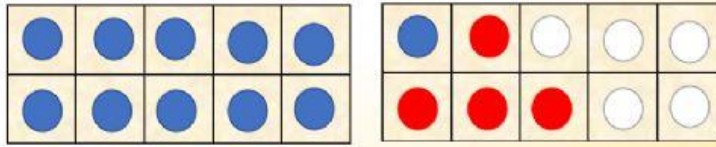
Formula:  -  =

Respuesta:  huevos.



¿Qué operación se representa? Marca.

1

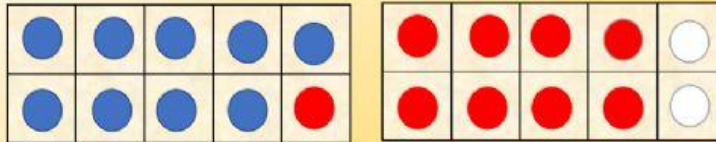


$11 + 4$

$20 - 15$

$11 - 4$

2

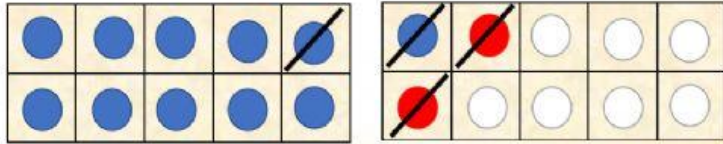


$20 - 2$

$9 + 9$

$9 - 9$

3

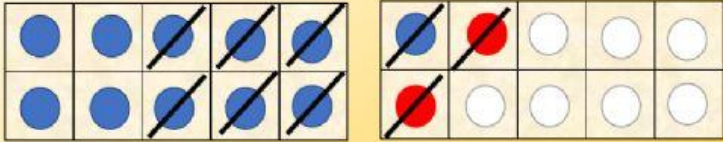


$9 + 4$

$20 - 4$

$13 - 4$

4



$4 + 9$

$13 - 9$

$9 - 4$

¿Qué número completa la adición?

$$4 + \square = 15$$

$$13 + \square = 19$$

$$17 = 12 + \square$$

$$11 = \square + 8$$

$$\square + 7 = 20$$

¿Qué número completa la sustracción?

$$15 - \square = 11$$

$$19 - \square = 13$$

$$\square = 17 - 12$$

$$\square = 11 - 8$$

$$20 - 7 = \square$$



Recuerda:



$$= 1 D = 10$$

¿Cuántos hay?

