

GÜNLÜK ÇALIŞMA

HAYAT BİLGİSİ

A. Aşağıda verilen bilgilerden doğru olanlar için yanındaki kutucuğa "D" yanlış olanlar için yanındaki kutucuğa "Y" yazın.

- Plastik atıklar geri dönüştürülmez.
- Doğayı korumak herkesin görevi değildir.
- Cam atıklar doğada yangın tehlikesi yaratabilir.
- Bitkisel yağlar geri dönüştürülemez.
- Pilleri pil atık kutusuna atmalıyız.
- Kâğıt atıklar geri dönüşüm kutusuna atılmalıdır.

TÜRKÇE

A. Aşağıda verilen kelimeleri alfabetik sıraya göre yanına sıra numarasını yazın.

Ufak	
Küçük	
Zar	
Dikey	

Kalem	
Silgi	
Bisiklet	
Çam	

Kara	
Ada	
Musluk	
Bal	

B. Aşağıdaki kelimelerin zıt anlamlarını karşısına yazın.

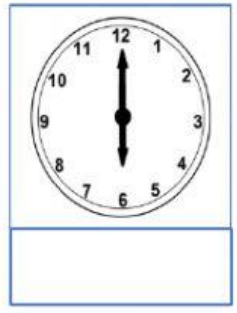
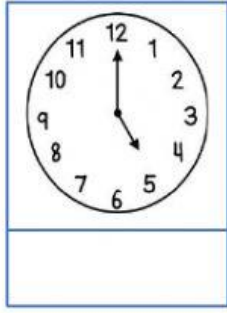

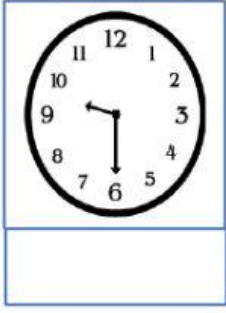
Siyah	
Acı	
Taze	
Zor	

Çürük	
İç	
Kış	
Eski	

Yavaş	
Önce	
Ağır	
Dolu	

MATEMATİK

A. Aşağıda gösterilen saatlerin okunuşunu altına yazın.



B. Aşağıdaki tabloya göre soruları cevaplayın.

Tablo: En sevilen renkler	
Mor	9
Kırmızı	6
Mavi	12
Pembe	11
Turuncu	8

- 1.) En fazla sevilen renk:
- 2.) En az sevilen renk:
- 3.) Mavi ile mor sevenlerin toplamı:
- 4.) Turuncu ile pembe sevenlerin toplamı:
- 5.) En çok ve en az sevilen renklerin toplamı:

C. Hangi sayıya 7 eklersek sonuç 11 olur?

$$\boxed{} + \boxed{7} = \boxed{11}$$

D. Canan'ın 9 lirası var. Kardeşinin Canan'dan 4 lira az parası vardır. İkisinin toplam kaç lirası vardır?

$$\boxed{9} - \boxed{4} = \boxed{} \text{ kardeşinin parası}$$

$$\boxed{9} + \boxed{} = \boxed{} \text{ İkisinin toplam parası}$$

E. Aşağıda yazılı olan sayıların arasındaki sayıları yazın.

20		22
----	--	----

36		38
----	--	----

55		57
----	--	----