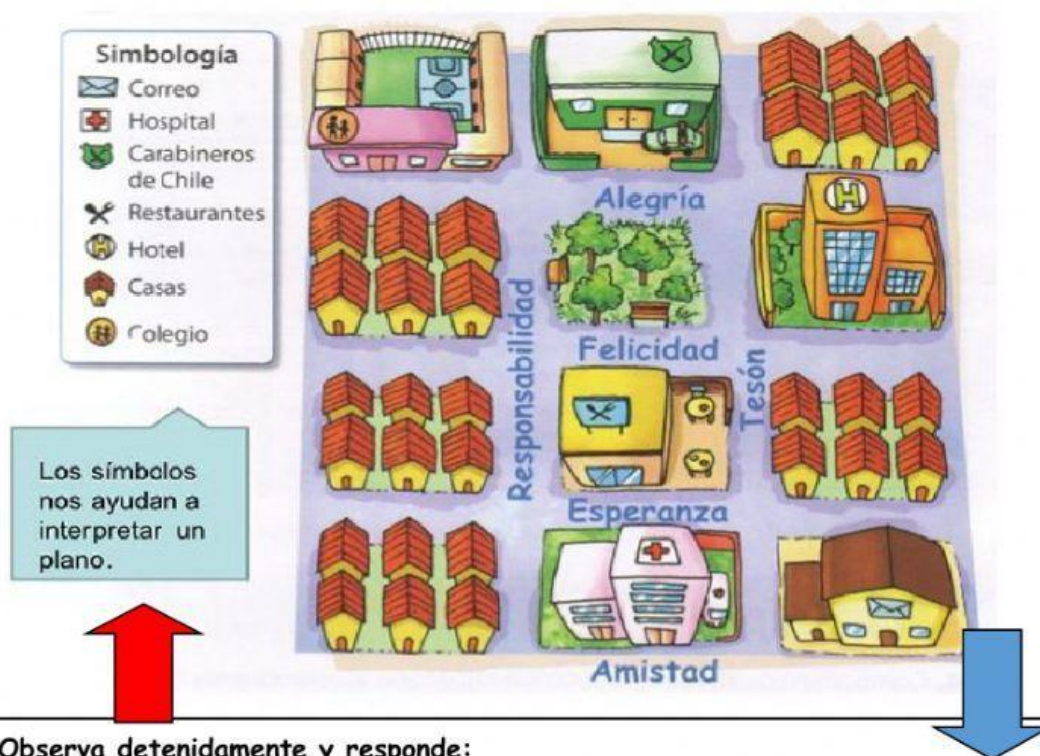






Historia 2ºA básico
Unidad 1: "Cómo es el lugar donde vivimos"
Guía 2

Nombre:

Objetivo 6: Leer y dibujar planos simples de su entorno, utilizando punto de referencia.



Observa detenidamente y responde:

1. Al lado derecho del hospital se encuentra..
2. Al lado derecho de la escuela se encuentra...
3. ¿Cómo se llama la calle que se encuentra al frente del hospital?
4. ¿Cómo se llama a calle que se encuentra al frente de los carabineros?
5. ¿Qué significa  ?
6. ¿Qué significa  ?



CORPORACIÓN MUNICIPAL
EDUCACIÓN, SALUD Y ATENCIÓN DE MENORES