




A 连一连。 SP5.2.1 SP5.2.2 TP1

<p>1</p> 	$\frac{7}{10}$ *	* 0.5 *	* 零点九
<p>2</p> 	$\frac{5}{10}$ *	* 0.7 *	* 零点五
<p>3</p> 	$\frac{9}{10}$ *	0.9 *	零点七

B 完成以下的数轴。 SP3.2.3 TP1

