










## Sumando decenas

Completa

|           |                                |  |             |                      |
|-----------|--------------------------------|--|-------------|----------------------|
| $3 + 4 =$ | <input type="text" value="7"/> | Entonces    | $30 + 40 =$ | <input type="text"/> |
| $2 + 2 =$ | <input type="text"/>           | Entonces    | $20 + 20 =$ | <input type="text"/> |
| $5 + 1 =$ | <input type="text"/>           | Entonces    | $50 + 10 =$ | <input type="text"/> |
| $3 + 3 =$ | <input type="text"/>           | Entonces    | $30 + 30 =$ | <input type="text"/> |
| $7 + 2 =$ | <input type="text"/>           | Entonces    | $70 + 20 =$ | <input type="text"/> |
| $4 + 5 =$ | <input type="text"/>           | Entonces    | $40 + 50 =$ | <input type="text"/> |
| $1 + 9 =$ | <input type="text"/>           | Entonces  | $10 + 90 =$ | <input type="text"/> |
| $6 + 3 =$ | <input type="text"/>           | Entonces  | $60 + 30 =$ | <input type="text"/> |
| $8 + 2 =$ | <input type="text"/>           | Entonces  | $80 + 20 =$ | <input type="text"/> |