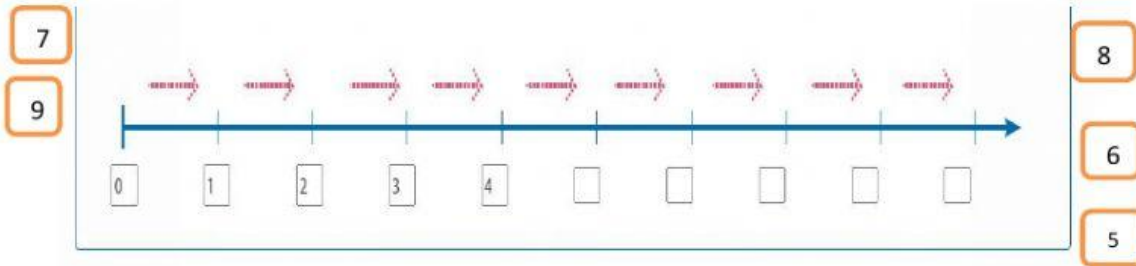


Escuela de Educación Básica
Lcdo Fausto Valdivieso Moscoso
Evaluación sumativa primer parcial



1.- Nombre : 2do de Bsica

2.-Seguir la secuencia numerica de la recta y completar los numeros que faltan .



3.-Comparar la cantidad y colocar al lado la operación del signo > mayor que < menor que
= igual.

=

=

>

>

8 8 <u> </u>	1 0 <u> </u>	2 1 <u> </u>	4 0 <u> </u>
3 5 <u> </u>	9 5 <u> </u>	6 6 <u> </u>	0 1 <u> </u>





>

<

<

>

4.- observar y completar la tabla.

Figura	Nombre	Número de lados
	<input type="text"/>	<input type="text"/>
	Rectángulo	<input type="text"/>
	<input type="text"/>	4 lados iguales
	<input type="text"/>	<input type="text"/>

Tiene 4 lados desiguales

Tiene 3 lados

Cuadrado




No tiene lados

Triángulo

Círculo


5.-contar los elementos y colocar el numero indicado


Camila tiene como tarea realizar un dibujo con seres de la naturaleza y para ello debe utilizar los datos de la siguiente tabla. ¿Cuántos elementos de cada clase debe dibujar Camila? **Ayudo** a Camila y **dibujo** los elementos.


Objeto	Conteo	Cantidad
	<input type="text"/>	<input type="text"/>
	<input type="text"/>	<input type="text"/>
	<input type="text"/>	<input type="text"/>





6.- relacionar la figura geometrica con el objeto .



















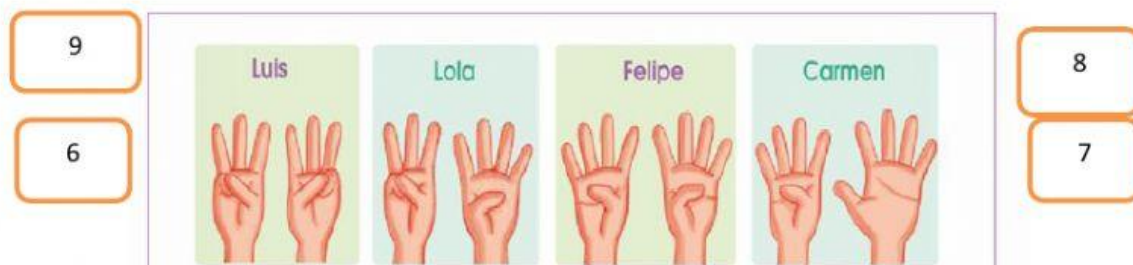



7.- completar el patrón de acuerdo al orden de la imagen.



8.-Realizar el conteo d los deditos y colocar el número que indica cada imagen .



9.- poner antes o después según la situación que muestra la imagen.



Antes

después

Antes

Después

10.-Marcar con una x los números dígitos

15

8

20

3

0

☐
☐
☐
☐
☐