




## Numărul și cifra



1. Formulează o problemă pe baza ilustrației și scrie operația.



2. Aranjează numerele în ordine descrescătoare:

0 6 8 2 →

3. Scrie vecinii numărului 7:



4. Compară numerele:

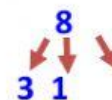
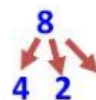
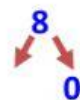
6 8      8 3      7 5      0 8

5. Calculează:

$$4 + 4 = \quad 2 + 6 = \quad 8 - \quad + 3 = 8$$

$$1 + 7 = \quad 8 = 3 + \quad - 6 + 7 = 8$$

6. Descompune numerele:



7. Pe terenul de sport sunt 5 băieți și 3 fete. Doi dintre ei pleacă în clasă.

Câți elevi mai rămân pe teren? (Scrie rezolvarea sub formă de exercițiu.)

elevi

Răspuns: elevi