

Діагностична робота 1 (тренувальна)

Узагальнюємо і впорядковуємо знання і вміння за 1 клас

У завданнях 1-3 натисни на правильну, на твою думку, відповідь.

1. У якому рядку записані лише одноцифрові числа?

А 13, 11, 10, 5, 19

Б 8, 11, 7, 3, 0, 9

В 2, 6, 0, 7, 4, 5

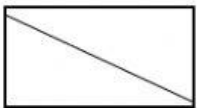
2. Визнач, яке число дорівнює 5 дм 1 см.

А 51 см

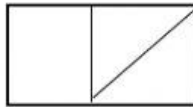
Б 15 см

В 51 дм

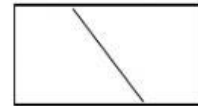
3. Визнач, яку фігуру з поданих розбито тільки на чотирикутники.



А



Б



В

4. Заміни число сумою розрядних доданків, запиши їх.

$$73 =$$

5. Запиши таке число, щоб одержати істинну нерівність.

$$26 >$$

6. Запиши, на скільки число 30 менше, ніж число 50.

Відповідь: на менше.

7. Запиши, яке значення має кожен вираз.

$$32 + 25 =$$

$$65 - 34 =$$


8. Запиши числа, пропущені в істинних рівностях.

$$30 + \quad = 70$$

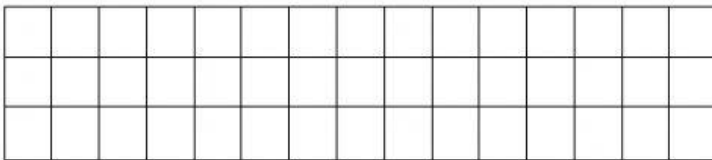
$$67 - \quad = 60$$

9. Розв'яжи задачу.

Після того як із мурашника вибігли 14 мурашок, у ньому залишилося 10 мурашок. Скільки мурашок було в мурашнику спочатку?



10. Визнач зріст ховраха, що стоїть на пуфі.



Відповідь: см.

