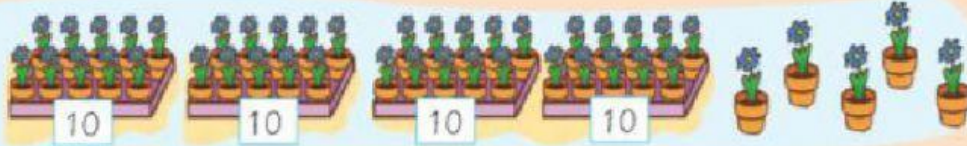


## Escritura de números hasta el 49

Representa. Estas macetas están listas para su venta. ¿Cuántas son?



4 decenas y 5 unidades

• Representamos en la tabla de valor posicional.

| D | U |
|---|---|
| 4 | 5 |


▶ 4 decenas y 5 unidades ▶  $40 + 5 = 45$

Son 45 macetas. Se escribe "cuarenta y cinco".

Los números hasta el 30 se escriben en una sola palabra. A partir del 31 se separan las decenas de las unidades con y.

- 1 Relaciona la escritura en cifras y letras de cada número. Coloca los círculos sobre los lápices según la clave.

CLAVE  ▶ 47  ▶ 38  ▶ 28  ▶ 49  ▶ 16




dieciséis

veintiocho

cuarenta y siete

cuarenta y nueve



treinta y ocho



• ¿Qué números se escriben con una sola palabra?  y .

• ¿Qué números se escriben con y? ,  y .

2 Observa cómo aumenta cada secuencia. Luego, completa.



3 Lee y marca el recuadro con el número que corresponda.

|                 |    |    |    |
|-----------------|----|----|----|
| Veinticinco     | 15 | 20 | 25 |
| Treinta y dos   | 32 | 42 | 23 |
| Cuarenta y uno  | 40 | 41 | 31 |
| Cuarenta y tres | 34 | 43 | 44 |

4 Lee y escribe los números en cifras. Luego, descomponlos.

Catorce

$$14 = 10 + 4$$

Cuarenta y cinco

$$\square = \square + \square$$

Treinta y uno

$$\square = \square + \square$$

Cuarenta y dos

$$\square = \square + \square$$

