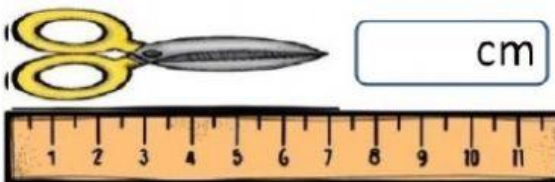
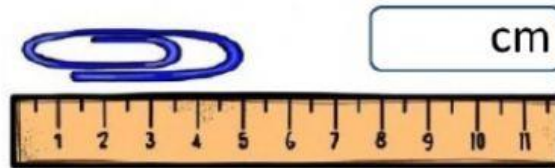
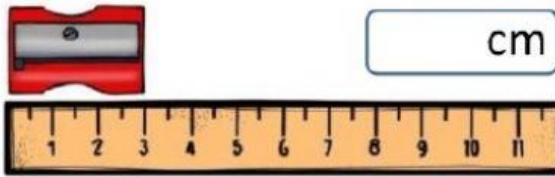


# MEDIDAS DE LONGITUD

1 Observá la regla y escribí cuántos centímetros mide cada objeto.



Largo: \_\_\_\_\_ cm

Ancho: \_\_\_\_\_ cm

2 Estimá cuánto mide y uní con la medida que creés que tiene.

3 cm

40 cm

15 cm



3 María tiene dos reglas: Una de 20 cm y otra de 50 cm ¿Cuánto medirán las dos juntas?



$$\square + \square = \square$$

# EL METRO

4 Completá cuántos centímetros hay en estos metros.

1 m =

7 m =

8 m =

3 m =

Centímetro → cm

Metro → m

1 metro = 100 centímetros

1 m = 100 cm



5 Estimá lo que creés que mide cada cosa y uní.



20 metros

menos de un metro

4 metros

6 Elegí qué instrumento de medida utilizarías para medir estos objetos y si lo medirías en metros o en centímetros.

