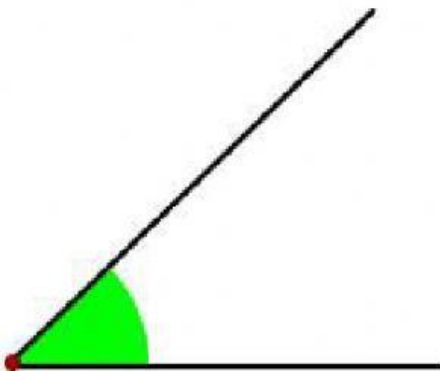


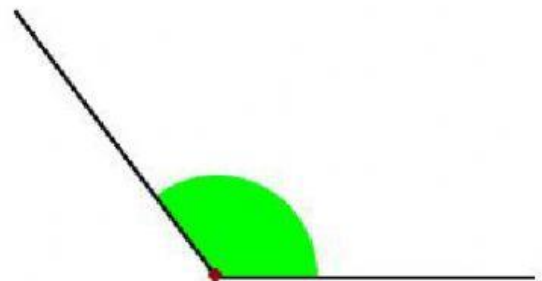
# ÁNGULOS

SELECCIONA LA RESPUESTA CORRECTA.


HAZ CLIC SOBRE LA RESPUESTA SELECCIONA




Ángulo recto  
Ángulo agudo  
Ángulo obtuso



Ángulo recto  
Ángulo completo  
Ángulo obtuso



Ángulo recto  
Ángulo agudo  
Ángulo obtuso



Ángulo recto  
Ángulo llano  
Ángulo obtuso