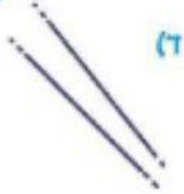



האם אתה מוכן?

הקיפו את התשובה הנכונה.

1 באיזה סעיף שני הישרים מאונכים זה לזה?



א



ב



ג



ד

2 באיזה סעיף שני הישרים מקבילים זה לזה?



א



ב




ג

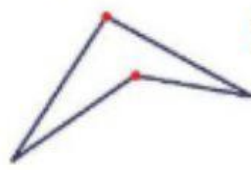


ד

3 באיזה סעיף הקדקודים הצבועים באדום הם קדקודים סמוכים של מרובע?



א

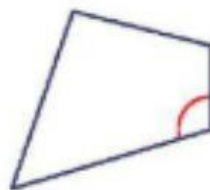


ב



ג

4 איזו זווית מסומנת במרובע שלפניכם?



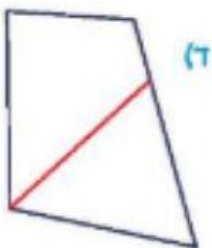
א) זווית נישאה

ב) זווית קהה


ג) זווית ישרה

ד) זווית חדה

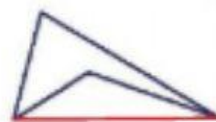
5 באיזה סעיף הקו האדום הוא אלכסון של מרובע?




א



ב



ג




ד

6 לאיזו צורה יש סימטריה שיקופית?



א



ב



ג



ד