

Matemáticas 1º E. Primaria

Repaso

1.- ¿Cuántos tarros hay?



Veintiocho

Treinta y tres

Treinta

2.- ¿Cuánto sumas estos dados?



→ 13

→ 14

→ 15

3.- ¿Dónde está la pelota azul?



→ A la derecha del banco

→ Debajo del tobogán


→ Encima del tren

4.- Señala la opción correcta.



- Hay 9 líneas rectas.
- Hay 3 líneas curvas.
- Hay 7 curvas cerradas.

5.- ¿Cuántas decenas hay?



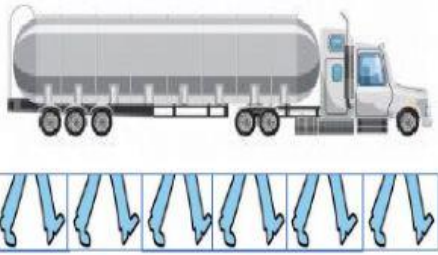





→ 80

→ 9

→ 90

6.- ¿Cuánto mide cada objeto?

		
PALMO	PIE	PASO
		

--	--	--

palmo

pies

pasos

camión

lápiz

mesa

La _____ mide 3 _____ .

El _____ mide 6 _____ .

El _____ mide 1 _____ .

