

# Funciones Vitales

¿Qué puede pasar si no se practica algún deporte habitualmente?



- ☐ Que no se suda lo suficiente.
- ☐ Que el cuerpo pierde fuerza y agilidad.
- ☐ Que se desaprovecha la ocasión de compartir un buen rato con otros.

Indica si estos términos son del aparato reproductor femenino o del masculino.

- Ovarios: aparato reproductor
- Pene: aparato reproductor
- Útero: aparato reproductor
- Testículos: aparato reproductor
- Vagina: aparato reproductor

¿A qué funciones vitales corresponden los siguientes términos?

- Orina: función de .....
- Aparato reproductor: función de .....
- Esqueleto: función de .....



Arrastra cada parte del cuerpo al aparato correspondiente.

tráquea   esófago   uréter   vejiga   intestino delgado  
vasos sanguíneos   pulmones   riñones   laringe   corazón  
estómago

| Respiratorio         | Digestivo            | Circulatorio         | Excretor             |
|----------------------|----------------------|----------------------|----------------------|
| <input type="text"/> | <input type="text"/> | <input type="text"/> | <input type="text"/> |
| <input type="text"/> | <input type="text"/> | <input type="text"/> | <input type="text"/> |
| <input type="text"/> | <input type="text"/> | <input type="text"/> | <input type="text"/> |



Observa la tabla y clasifica en ella las palabras siguientes.






esófago

intestino grueso

músculos

espermatozoides

cerebro

| Nutrición   | Relación  | Reproducción  |
|---|---|---|
|  |  |  |
|  |  |   |

¿Cuáles de estos aparatos intervienen en la función de nutrición?

- ☐ Aparato circulatorio y nervioso.
- ☐ Aparato digestivo y locomotor.
- ☐ Aparato respiratorio y circulatorio.

¿A qué funciones vitales corresponden los siguientes términos?

- Orina: función de .....
- Aparato reproductor: función de .....
- Esqueleto: función de .....

